

## Schriftliche Prüfung (90 Minuten)

### **Bemerkungen:**

- Erlaubte Hilfsmittel: 10 hand- oder maschinengeschriebene A4 Seiten (=5 Blätter). Taschenrechner ohne Kommunikationsmöglichkeit.
- Mobiltelefone sind auszuschalten!
- Die Prüfung besteht aus insgesamt **16 Aufgaben**.
- Markieren Sie Ihre Antworten auf dem beiliegenden **Antwortblatt**.
- Jede Aufgabe besteht aus mehreren Aussagen. Pro Aufgabe können keine, eine oder mehrere Aussagen richtig sein.
- Für jede Aussage gibt es 1 Punkt, wenn sie korrekt markiert wird. 1 Punkt wird abgezogen, wenn eine Aussage falsch markiert wird. Wenn eine Aussage nicht markiert wird, gibt es keinen Punkt, es wird aber auch kein Punkt abgezogen. Die Punkte werden über die gesamte Prüfung summiert.
- Alle Rechnungsergebnisse sind auf 2 Nachkommastellen gerundet.
- Die nötigen Tabellen befinden sich auf den hintersten Seiten dieser Prüfung.
- Verweilen Sie nicht zu lange bei einem Aufgabenteil, der Ihnen grosse Schwierigkeiten bereitet!

**Viel Erfolg!**

# Gruppe A

---

## Binomialverteilung und -test

1. Angenommen, die Zufallsvariablen  $X_i$  für  $i \in \{1, 2, 3, 4\}$  sind unabhängig und identisch verteilt mit Verteilung  $P(X_i = 0) = 0.2$  und  $P(X_i = 1) = 0.8$ . Dann gilt...
  - a) Für alle  $i \in \{1, 2, 3, 4\}$  hat  $X_i$  die Verteilung  $Binomial(1, 0.2)$ .
  - b)  $E(X_1) = 0.8$ .
  - c)  $E(X_1 + X_2 + X_3 + X_4) = 3.2$ .
  - d) Angenommen,  $X \sim Bernoulli(\pi)$  und  $Y \sim Binomial(n, \pi)$ . Dann gilt allgemein, dass  $n \text{Var}(X) = \text{Var}(Y)$ .
  
2. Moritz tritt einen Ball gegen eine Torwand. Wir nehmen an, dass seine Schüsse unabhängig voneinander sind. Die Zufallsvariable  $X_i$  beschreibt das Ereignis, dass Moritz im  $i$ -ten Versuch trifft ( $X_i = 1$ ) oder verfehlt ( $X_i = 0$ ). Im Schnitt trifft Moritz in 10% der Fälle. Insgesamt schießt er 50 mal auf die Torwand. Sei die Anzahl Treffer  $Y$  definiert als  $Y = X_1 + X_2 + X_3 + \dots + X_{50}$ . Dann gilt ...
  - a) Die Anzahl der fehlgeschlagenen Versuche berechnet man als  $1 - Y$ .
  - b)  $Y$  folgt einer Binomialverteilung mit  $n = 50$  und  $\pi = 0.1$ .
  - c) Es gilt  $P(Y < 25) > P(Y \geq 25)$ .
  - d) Bei den 50 Versuchen erwarten wir, dass Moritz 5 mal trifft.
  
3. Wir betrachten den Binomialtest für ( $n = 10$ ,  $\alpha = 0.05$ ) mit  $H_0 : \pi = 0.5$  und  $H_A : \pi > 0.5$ . Der beobachtete Wert der Teststatistik  $X$  ist  $x = 7$ . Beurteilen Sie folgende Aussagen.
  - a) Der Verwerfungsbereich ist  $K = \{9, 10\}$ .
  - b) Der P-Wert der Daten ist 0.172.
  - c) Der P-Wert ist gleich  $P_{H_A}(X \in \{7, 8, 9, 10\})$ .
  - d) Je grösser der Fehler 1. Art, desto grösser ist die Macht.
  
4. Beurteilen Sie folgende Aussagen.
  - a) Die Faustregeln für die Normalapproximation einer Binomialverteilung sagen aus, dass bei einem Wert von  $\pi = 0.5$  mindestens  $n = 11$  Stichproben vorhanden sein müssen.
  - b) Wenn  $X_1$  und  $X_2$  bernoulliverteilt mit gleichem Parameter  $\pi = 0.6$  sind, dann ist  $X_1 + X_2$  binomialverteilt mit  $n = 2$  und  $\pi = 0.6$ .
  - c) Wenn  $Y_1$  und  $Y_2$  i.i.d.  $Binomial(n, p)$  verteilt sind, dann gilt  $Y_1 + Y_2 \sim Binomial(2n, p)$  verteilt.
  - d) Auf einem Parkplatz stehen 7 rote Autos und 4 blaue Autos. Jemand bestimmt zufällig 3 Autos, welche abgeschleppt werden sollen. Die Anzahl der blauen Autos unter den 3 abgeschleppten Autos kann mit einer Binomialverteilung genau modelliert werden.

# Gruppe A

---

## t-Test

5. In einer Studie wird ein neues Medikament zur Senkung des Augeninnendrucks getestet. Es wurden 40 Probanden über 4 Wochen hinweg mit dem Medikament behandelt. Dafür wurde bei jedem Proband das Medikament in das linke Auge getropft. Das rechte Auge wurde jeweils unbehandelt gelassen. Der Augeninnendruck des rechten bzw. des linken Auges pro Proband nach der Behandlung ist in der folgenden (unvollständigen) Tabelle aufgeführt:

Rechtes Auge $x_i$	14	23	15	...	31
Linkes Auge $y_i$	16	17	25	...	15

Wir nehmen an, dass die Messungen der jeweiligen Probanden unabhängig voneinander sind, sowie einer Normalverteilung folgen mit Erwartungswert  $\mu_x$  (rechtes Auge), beziehungsweise  $\mu_y$  (linkes Auge) und gleicher Standardabweichung  $\sigma$ .

Beurteilen Sie folgende Aussagen.

- Es handelt sich um gepaarte Stichproben.
  - Bei einem gepaarten t-Test müssen die Stichprobengrößen in beiden Gruppen gleich sein.
  - Wir können bei gepaarten Stichproben keinen ungepaarten t-Test verwenden.
  - Der z-Test setzt voraus, dass die wahre Standardabweichung bekannt ist.
6. Aus den Daten der Augen-Studie (vorherige Aufgabe) wurden folgende Kennzahlen ermittelt:  $\bar{x} = 19.8$ ,  $\bar{y} = 17.4$  und die geschätzte Varianz von  $X - Y$  ist  $\widehat{Var}(X - Y) = 4.2^2$ . Wir führen nun einen gepaarten t-Test durch. Wir legen den Test folgendermassen an:  $H_0 : \mu_x = \mu_y$ ,  $H_A : \mu_x > \mu_y$ .
- Die Macht des Tests für eine einseitige Alternativhypothese ist immer kleiner als für  $H_A : \mu_x \neq \mu_y$ .
  - Der beobachtete Wert der Teststatistik liegt zwischen 3.55 und 3.65.
  - Unter  $H_0$  folgt die Teststatistik einer  $t_{40}$ -Verteilung.
  - Angenommen, die Teststatistik wäre 1.60 und der Verwerfungsbereich des Tests wäre  $[1.69, \infty)$  für das Signifikanzniveau  $\alpha = 5\%$ . Dann wird die Nullhypothese auf dem 5%-Signifikanzniveau verworfen.

7. Beurteilen Sie folgende Aussagen.

- a) Für den Wilcoxon-Test können die Datenpunkte von einer beliebigen Verteilung stammen.
- b) Angenommen, wir würden die Differenzen  $\{x_1 - y_1, \dots, x_{40} - y_{40}\}$  aus der Augen-Studie betrachten. Nun führen wir auf diesem Datensatz einen Vorzeichen-Test durch, um eine Senkung des Augeninnendrucks durch das Medikament zu überprüfen. Die Verteilung der entsprechenden Teststatistik unter der Nullhypothese ist nun  $Binomial(40, 0.5)$ .
- c) Wir führen einen ungepaarten t-Test auf den Daten der Augen-Studie durch mit  $H_0 : \mu_x = \mu_y$  und  $H_A : \mu_x \neq \mu_y$ . Angenommen  $\bar{x} = 19.8$ ,  $\bar{y} = 17.4$ ,  $\hat{\sigma}_x = 3.8$  und  $\hat{\sigma}_y = 4.5$ . Die Teststatistik des ungepaarten t-Tests liegt zwischen 2.55 und 2.60.
- d) Angenommen, ein t-Test liefert einen P-Wert, der es uns erlaubt, die Nullhypothese auf dem 2.5%-Signifikanzniveau zu verwerfen. Dann können wir die Nullhypothese immer auch auf dem 1%-Signifikanzniveau verwerfen.

# Gruppe A

---

## Lineare Regression

8. Beurteilen Sie folgende Aussagen.

- a) Beim Vorzeichen-Test muss die wahre Standardabweichung der Zufallsvariablen bekannt sein.
- b) Die Nullhypothese des Vorzeichen-Tests lautet  $H_0 : \mu = \mu_0$ , wobei  $\mu$  der Median und  $\mu_0$  ein vorgegebener, bekannter Wert ist.
- c) Bei einem Einstichproben t-Test ( $H_0 : \mu = 0$ ,  $H_A : \mu > 0$ , 20 Beobachtungen insgesamt) ist der P-Wert 2.5%. Daher muss der beobachtete Wert der Teststatistik 2.09 gewesen sein (auf 2 Stellen gerundet).
- d) Wir führen einen Einstichproben t-Test ( $H_0 : \mu = 0$ ,  $H_A : \mu \neq 0$ , 24 Beobachtungen insgesamt) durch. Angenommen wir haben  $\bar{x} = 14.7$  und  $\hat{\sigma}_x = 2.5$ . Ein exaktes zweiseitiges 95%-Vertrauensintervall für  $\mu$  ist  $[13.64, 15.76]$  (auf 2 Stellen gerundet).

# Gruppe A

---

9. Lukas, der Sprengexperte, hat bei verschiedenen Sprengungen in Silber- und Goldminen die verwendete Menge TNT und das abgesprengte Volumen gemessen. Er möchte das abgesprengte Volumen (Variable `volumen`), gemessen in Kubikzentimetern  $cm^3$ , in Abhängigkeit der verwendeten Menge TNT (Variable `tnt`), gemessen in Gramm  $g$ , beschreiben. Hierfür verwendet er ein lineares Modell:

$$\text{volumen}_i = \beta_0 + \beta_1 \cdot \text{tnt}_i + \varepsilon_i, \quad \varepsilon_i \stackrel{\text{iid}}{\sim} \mathcal{N}(0, \sigma^2).$$

Der (unvollständige) Regressionsoutput sieht wie folgt aus:

Residuals:

Min	1Q	Median	3Q	Max
-44.50	-19.32	1.72	15.61	55.40

Coefficients:

	Estimate	Std. Error	t value	Pr(> t )
(Intercept)	6.6946	???	0.99	0.33
tnt	1.7324	0.0563	???	<2e-16 ***

---  
0 '\*\*\*' 0.001 '\*\*' 0.01 '\*' 0.05 '.' 0.1 ' ' 1

Residual standard error: 25.2 on 58 degrees of freedom

Multiple R-squared: 0.942, Adjusted R-squared: 0.941

F-statistic: 947 on 1 and 58 DF, p-value: <2e-16

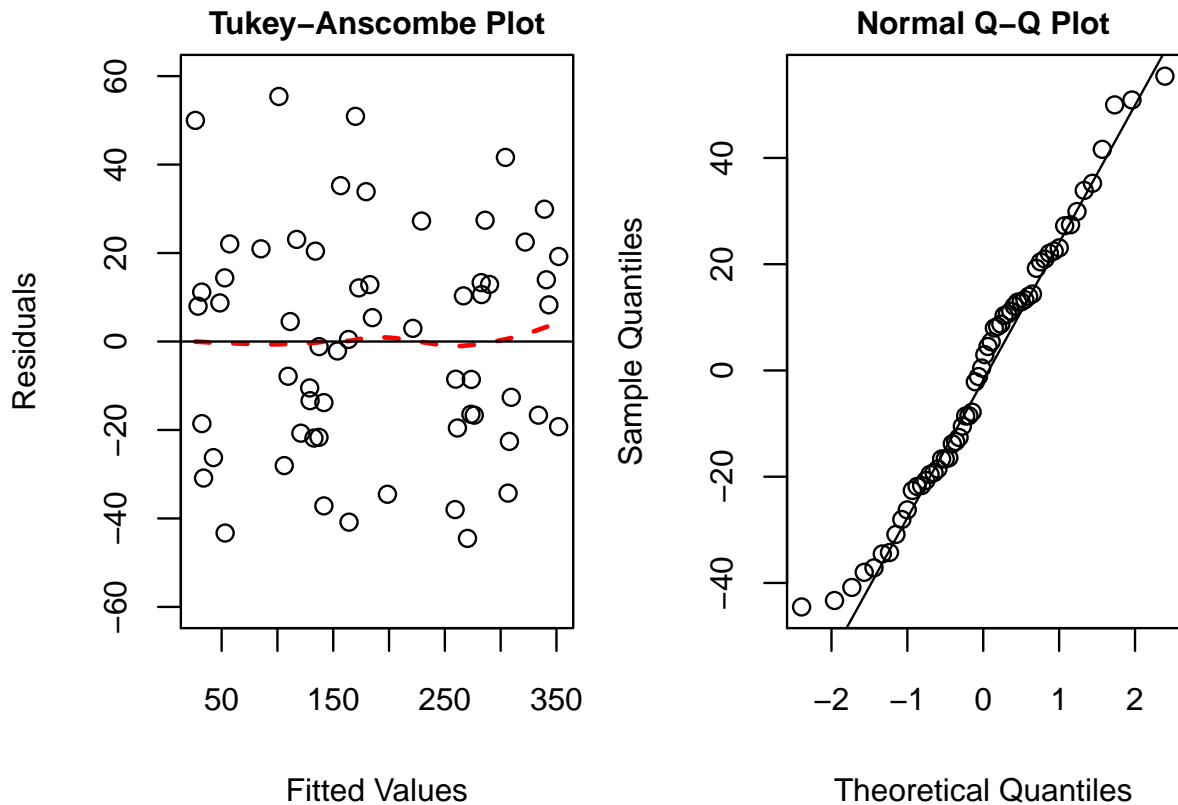
Beurteilen Sie folgende Aussagen.

- Die lineare Regression wurde basierend auf  $n = 60$  Datenpunkten berechnet.
  - Der geschätzte Standardfehler des Parameters  $\hat{\beta}_0$  ist 6.69.
  - $H_0 : \beta_1 = 0$  wird auf dem 5% Niveau verworfen.
  - Ein zweiseitiges 99%-Vertrauensintervall für  $\beta_1$  ist gegeben durch  $[1.58, 1.88]$ .  
(Das entsprechende 99.5% Quantil der t-Verteilung ist 2.67)
10. Mit Hilfe des geschätzten Modells aus der Sprengstudie (vorherige Aufgabe) wollen wir nun Vorhersagen machen. Beurteilen Sie folgende Aussagen.
- Wenn Lukas die Menge an eingesetztem TNT um  $2 g$  reduziert, dann reduziert sich das erwartete Sprengvolumen um  $0.866 cm^3$ .
  - Angenommen, Lukas hat mit dem Modell ein erwartetes Sprengvolumen von  $64 cm^3$  vorhergesagt. Dafür muss Lukas  $33.10 g$  TNT einsetzen.
  - Falls Lukas  $0.10 kg$  TNT verwendet, kann er im Mittel ein Volumen von  $180 cm^3$  sprengen.
  - Das 95%-Vorhersageintervall für das Sprengvolumen beschreibt den Bereich, in welchem sich das erwartete Sprengvolumen mit 95% Wahrscheinlichkeit befindet.

# Gruppe A

## Gemischte Fragen

11. Betrachten Sie die nachfolgenden Plots, welche die Residuen aus dem Regressionsmodell der Sprengstudie zeigen.



Beurteilen Sie folgende Aussagen.

- Der Mittelwert der Residuen ist in etwa 0.
- Die Normalitätsannahme ist erfüllt.
- Es gibt drei starke Ausreisser, daher sind die Parameterschätzungen der linearen Regression verfälscht.
- Angenommen, wir verwenden das quadrierte Sprengvolumen als Zielvariable ( $(\text{volumen}_i)^2 = \beta_0 + \beta_1 \text{tnt}_i + \varepsilon_i$ ). Dann ist dieses Regressionsmodell kein lineares Modell.

12. Beurteilen Sie folgende Aussagen.

- Seien  $E(X) = 1$ ,  $E(Y) = 1$  und  $E(Z) = 2$ , wobei  $X$ ,  $Y$  und  $Z$  unabhängig sind. Dann gilt  $E[X + Y] = E[X - Y + Z]$ .
- Sei  $\text{Var}(X) = 1$  und  $\text{Var}(Y) = 4$ , wobei  $X$  und  $Y$  unabhängig sind. Dann gilt  $\text{Var}[2X] = \text{Var}[Y]$ .
- Das arithmetische Mittel der Daten  $\{0, 1, 5\}$  ist 1.
- Die (empirisch) standardisierten Daten von  $\{1, 3, 5\}$  sind  $\{-1, 0, 1\}$ .

13. Beurteilen Sie folgende Aussagen.

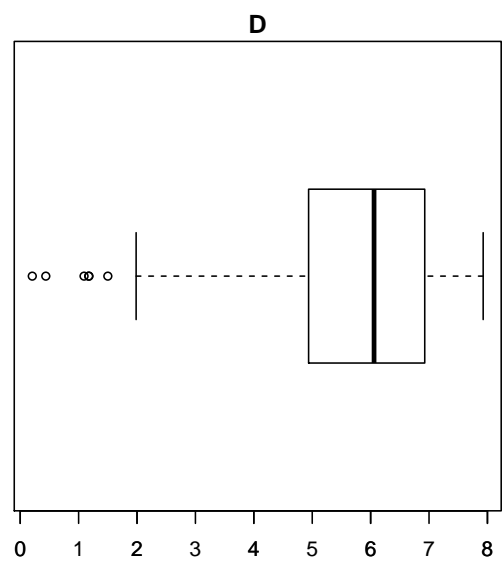
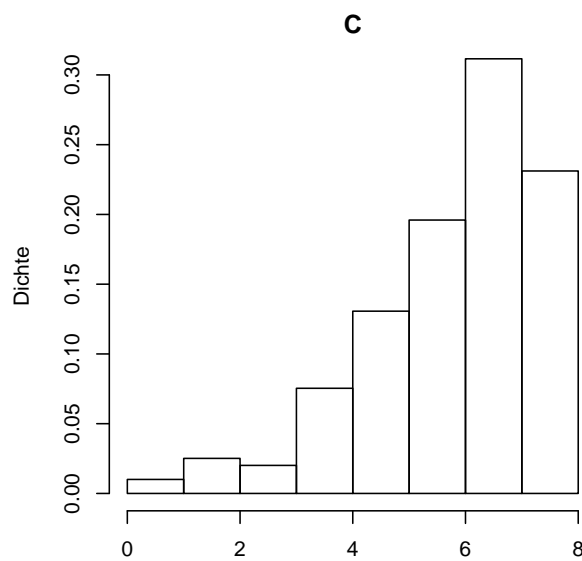
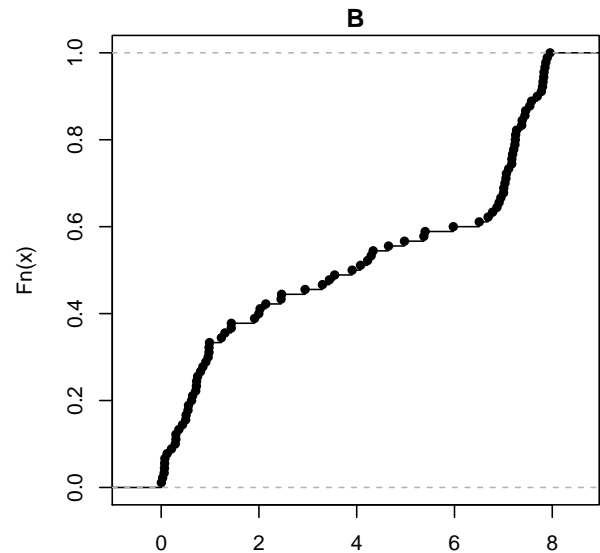
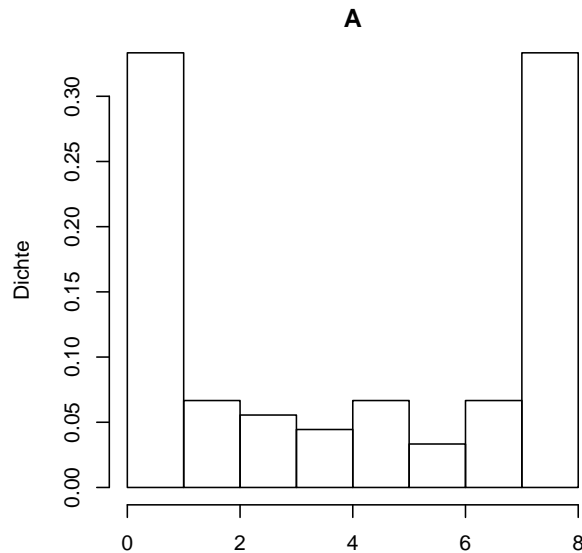
- a) Falls  $P(A) = 0.2$  und  $P(B) = 0.8$ . Dann gilt immer, dass  $P(A \cup B) = 1$ .
- b) Falls  $P(E) < P(F)$ , dann gilt  $odds(E) < odds(F)$ .
- c) Es gilt  $odds(E^c) = \frac{1}{odds(E)}$  für ein Ereignis  $E$  und sein Komplement  $E^c$ .
- d) Falls  $A \cap B = \emptyset$  und  $P(A) = P(B) = 1/4$ . Dann ist  $odds(A \cup B) = 1/2$ .

14. Beurteilen Sie folgende Aussagen.

- a) Falls  $P(A|B) = 0.5$  und  $P(A \cap B) = 0.2$ , dann muss  $P(B) = 0.4$  sein.
- b) Falls  $P(A \cup B) = 0.6$  und  $P(A) = P(B) = 0.4$ , dann ist  $P(A|B) = 0.5$
- c) Falls  $P(A) = P(B) = 0.2$  mit  $A$  und  $B$  unabhängig. Dann gilt  $P(B|A) = 0$ .
- d) Falls  $P(A) \neq 0$  und  $P(B) \neq 0$ , wobei  $A$  und  $B$  disjunkt sind. Dann sind  $A$  und  $B$  unabhängig.



15. Betrachten Sie die nachfolgenden Plots.



Beurteilen Sie folgende Aussagen.

- Dem Histogramm in Plot **A** und der empirischen Verteilungsfunktion in Plot **B** liegen dieselben Daten zugrunde.
- Der empirischen Verteilungsfunktion im Plot **B** und dem Boxplot in Plot **D** liegen dieselben Daten zugrunde.
- Der Median der Daten, welche im Histogramm in Plot **C** dargestellt sind, liegt bei 4.
- Im Boxplot in Plot **D** liegen etwa 50% der Daten zwischen 5 und 7.

## Gruppe A

---

16. Es seien  $X_1, \dots, X_n \sim F$ , wobei  $F$  eine Verteilung ist mit Erwartungswert  $E[X_i] = \mu$  und endlicher Varianz  $\sigma_F^2$ . Beurteilen Sie folgende Aussagen.
- a) Falls  $X_1 = \dots = X_n$  gilt, sagt das  $\sqrt{n}$ -Gesetz aus, dass die Standardabweichung von  $\bar{X}_n = \frac{1}{n} \sum_{i=1}^n X_i$  proportional zu  $\frac{1}{\sqrt{n}}$  ist.
  - b) Damit der zentrale Grenzwertsatz gilt, müssen alle Zufallsvariablen  $X_1, \dots, X_n$  unabhängig sein.
  - c) Falls Unabhängigkeit gilt ( $X_1, \dots, X_n \stackrel{i.i.d.}{\sim} F$ ), dann sagt der zentrale Grenzwertsatz aus, dass die Verteilung von  $\bar{X}_n$  für grosses  $n$  gegen  $\mathcal{N}(\mu/n, \sigma^2/n)$  konvergiert.
  - d) Die Lebensdauer von normalen Batterien in Stirnlampen kann als unabhängig angenommen werden. Johannes möchte nun eine 4 stündige Höhlenexpedition unternehmen und fragt sich, wie viele Batterien er für die Stirnlampe mitnehmen sollte. Eine Batterie hält im Schnitt eine halbe Stunde ( $0.5h$ ) mit einer Standardabweichung von  $0.2h$ . Wenn Johannes 10 Batterien verwendet hat er mit einer Wahrscheinlichkeit von mehr als 95% Licht für die gesamte Expedition.

# Gruppe B

---

## t-Test

1. In einer Studie wird ein neues Medikament zur Senkung des Augeninnendrucks getestet. Es wurden 40 Probanden über 4 Wochen hinweg mit dem Medikament behandelt. Dafür wurde bei jedem Proband das Medikament in das linke Auge getropft. Das rechte Auge wurde jeweils unbehandelt gelassen. Der Augeninnendruck des rechten bzw. des linken Auges pro Proband nach der Behandlung ist in der folgenden (unvollständigen) Tabelle aufgeführt:

Rechtes Auge $x_i$	14	23	15	...	31
Linkes Auge $y_i$	16	17	25	...	15

Wir nehmen an, dass die Messungen der jeweiligen Probanden unabhängig voneinander sind, sowie einer Normalverteilung folgen mit Erwartungswert  $\mu_x$  (rechtes Auge), beziehungsweise  $\mu_y$  (linkes Auge) und gleicher Standardabweichung  $\sigma$ .

Beurteilen Sie folgende Aussagen.

- Es handelt sich um gepaarte Stichproben.
  - Bei einem gepaarten t-Test müssen die Stichprobengrößen in beiden Gruppen gleich sein.
  - Wir können bei gepaarten Stichproben keinen ungepaarten t-Test verwenden.
  - Der z-Test setzt voraus, dass die wahre Standardabweichung bekannt ist.
2. Aus den Daten der Augen-Studie (vorherige Aufgabe) wurden folgende Kennzahlen ermittelt:  $\bar{x} = 19.8$ ,  $\bar{y} = 17.4$  und die geschätzte Varianz von  $X - Y$  ist  $\widehat{Var}(X - Y) = 4.2^2$ . Wir führen nun einen gepaarten t-Test durch. Wir legen den Test folgendermassen an:  $H_0 : \mu_x = \mu_y$ ,  $H_A : \mu_x > \mu_y$ .
- Die Macht des Tests für eine einseitige Alternativhypothese ist immer kleiner als für  $H_A : \mu_x \neq \mu_y$ .
  - Der beobachtete Wert der Teststatistik liegt zwischen 3.55 und 3.65.
  - Unter  $H_0$  folgt die Teststatistik einer  $t_{40}$ -Verteilung.
  - Angenommen, die Teststatistik wäre 1.60 und der Verwerfungsbereich des Tests wäre  $[1.69, \infty)$  für das Signifikanzniveau  $\alpha = 5\%$ . Dann wird die Nullhypothese auf dem 5%-Signifikanzniveau verworfen.

## Gruppe B

---

3. Beurteilen Sie folgende Aussagen.

- a) Für den Wilcoxon-Test können die Datenpunkte von einer beliebigen Verteilung stammen.
- b) Angenommen, wir würden die Differenzen  $\{x_1 - y_1, \dots, x_{40} - y_{40}\}$  aus der Augen-Studie betrachten. Nun führen wir auf diesem Datensatz einen Vorzeichen-Test durch, um eine Senkung des Augeninnendrucks durch das Medikament zu überprüfen. Die Verteilung der entsprechenden Teststatistik unter der Nullhypothese ist nun  $Binomial(40, 0.5)$ .
- c) Wir führen einen ungepaarten t-Test auf den Daten der Augen-Studie durch mit  $H_0 : \mu_x = \mu_y$  und  $H_A : \mu_x \neq \mu_y$ . Angenommen  $\bar{x} = 19.8$ ,  $\bar{y} = 17.4$ ,  $\hat{\sigma}_x = 3.8$  und  $\hat{\sigma}_y = 4.5$ . Die Teststatistik des ungepaarten t-Tests liegt zwischen 2.55 und 2.60.
- d) Angenommen, ein t-Test liefert einen P-Wert, der es uns erlaubt, die Nullhypothese auf dem 2.5%-Signifikanzniveau zu verwerfen. Dann können wir die Nullhypothese immer auch auf dem 1%-Signifikanzniveau verwerfen.

# Gruppe B

---

## Lineare Regression

4. Beurteilen Sie folgende Aussagen.

- a) Beim Vorzeichen-Test muss die wahre Standardabweichung der Zufallsvariablen bekannt sein.
- b) Die Nullhypothese des Vorzeichen-Tests lautet  $H_0 : \mu = \mu_0$ , wobei  $\mu$  der Median und  $\mu_0$  ein vorgegebener, bekannter Wert ist.
- c) Bei einem Einstichproben t-Test ( $H_0 : \mu = 0$ ,  $H_A : \mu > 0$ , 20 Beobachtungen insgesamt) ist der P-Wert 2.5%. Daher muss der beobachtete Wert der Teststatistik 2.09 gewesen sein (auf 2 Stellen gerundet).
- d) Wir führen einen Einstichproben t-Test ( $H_0 : \mu = 0$ ,  $H_A : \mu \neq 0$ , 24 Beobachtungen insgesamt) durch. Angenommen wir haben  $\bar{x} = 14.7$  und  $\hat{\sigma}_x = 2.5$ . Ein exaktes zweiseitiges 95%-Vertrauensintervall für  $\mu$  ist  $[13.64, 15.76]$  (auf 2 Stellen gerundet).

## Gruppe B

---

5. Lukas, der Sprengexperte, hat bei verschiedenen Sprengungen in Silber- und Goldminen die verwendete Menge TNT und das abgesprengte Volumen gemessen. Er möchte das abgesprengte Volumen (Variable `volumen`), gemessen in Kubikzentimetern  $cm^3$ , in Abhängigkeit der verwendeten Menge TNT (Variable `tnt`), gemessen in Gramm  $g$ , beschreiben. Hierfür verwendet er ein lineares Modell:

$$\text{volumen}_i = \beta_0 + \beta_1 \cdot \text{tnt}_i + \varepsilon_i, \quad \varepsilon_i \stackrel{\text{iid}}{\sim} \mathcal{N}(0, \sigma^2).$$

Der (unvollständige) Regressionsoutput sieht wie folgt aus:

Residuals:

Min	1Q	Median	3Q	Max
-44.50	-19.32	1.72	15.61	55.40

Coefficients:

	Estimate	Std. Error	t value	Pr(> t )
(Intercept)	6.6946	???	0.99	0.33
tnt	1.7324	0.0563	???	<2e-16 ***

---  
0 '\*\*\*' 0.001 '\*\*' 0.01 '\*' 0.05 '.' 0.1 ' ' 1

Residual standard error: 25.2 on 58 degrees of freedom

Multiple R-squared: 0.942, Adjusted R-squared: 0.941

F-statistic: 947 on 1 and 58 DF, p-value: <2e-16

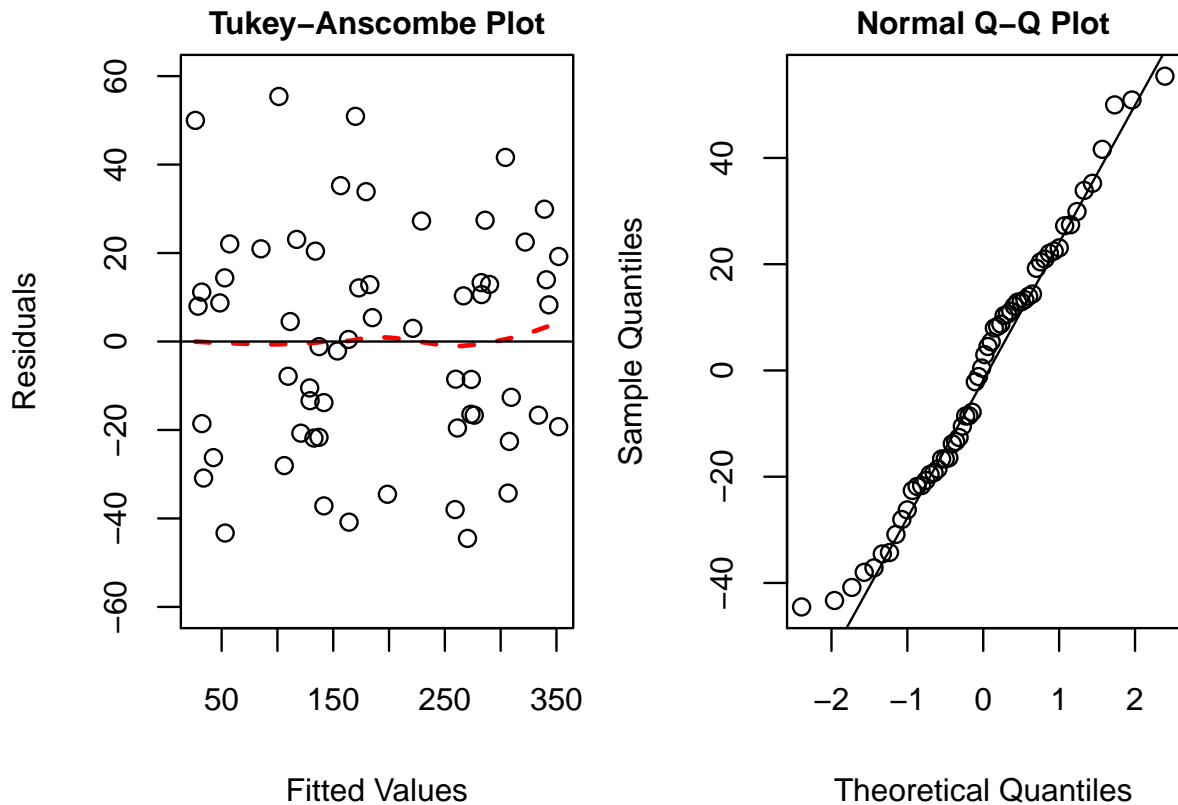
Beurteilen Sie folgende Aussagen.

- Die lineare Regression wurde basierend auf  $n = 60$  Datenpunkten berechnet.
  - Der geschätzte Standardfehler des Parameters  $\hat{\beta}_0$  ist 6.69.
  - $H_0 : \beta_1 = 0$  wird auf dem 5% Niveau verworfen.
  - Ein zweiseitiges 99%-Vertrauensintervall für  $\beta_1$  ist gegeben durch  $[1.58, 1.88]$ .  
(Das entsprechende 99.5% Quantil der t-Verteilung ist 2.67)
6. Mit Hilfe des geschätzten Modells aus der Sprengstudie (vorherige Aufgabe) wollen wir nun Vorhersagen machen. Beurteilen Sie folgende Aussagen.
- Wenn Lukas die Menge an eingesetztem TNT um  $2 g$  reduziert, dann reduziert sich das erwartete Sprengvolumen um  $0.866 cm^3$ .
  - Angenommen, Lukas hat mit dem Modell ein erwartetes Sprengvolumen von  $64 cm^3$  vorhergesagt. Dafür muss Lukas  $33.10 g$  TNT einsetzen.
  - Falls Lukas  $0.10 kg$  TNT verwendet, kann er im Mittel ein Volumen von  $180 cm^3$  sprengen.
  - Das 95%-Vorhersageintervall für das Sprengvolumen beschreibt den Bereich, in welchem sich das erwartete Sprengvolumen mit 95% Wahrscheinlichkeit befindet.

# Gruppe B

## Gemischte Fragen

7. Betrachten Sie die nachfolgenden Plots, welche die Residuen aus dem Regressionsmodell der Sprengstudie zeigen.



Beurteilen Sie folgende Aussagen.

- Der Mittelwert der Residuen ist in etwa 0.
- Die Normalitätsannahme ist erfüllt.
- Es gibt drei starke Ausreisser, daher sind die Parameterschätzungen der linearen Regression verfälscht.
- Angenommen, wir verwenden das quadrierte Sprengvolumen als Zielvariable ( $(\text{volumen}_i)^2 = \beta_0 + \beta_1 \text{tnt}_i + \varepsilon_i$ ). Dann ist dieses Regressionsmodell kein lineares Modell.

8. Beurteilen Sie folgende Aussagen.

- Seien  $E(X) = 1$ ,  $E(Y) = 1$  und  $E(Z) = 2$ , wobei  $X$ ,  $Y$  und  $Z$  unabhängig sind. Dann gilt  $E[X + Y] = E[X - Y + Z]$ .
- Sei  $\text{Var}(X) = 1$  und  $\text{Var}(Y) = 4$ , wobei  $X$  und  $Y$  unabhängig sind. Dann gilt  $\text{Var}[2X] = \text{Var}[Y]$ .
- Das arithmetische Mittel der Daten  $\{0, 1, 5\}$  ist 1.
- Die (empirisch) standardisierten Daten von  $\{1, 3, 5\}$  sind  $\{-1, 0, 1\}$ .

## Gruppe B

---

9. Beurteilen Sie folgende Aussagen.

- a) Falls  $P(A) = 0.2$  und  $P(B) = 0.8$ . Dann gilt immer, dass  $P(A \cup B) = 1$ .
- b) Falls  $P(E) < P(F)$ , dann gilt  $odds(E) < odds(F)$ .
- c) Es gilt  $odds(E^c) = \frac{1}{odds(E)}$  für ein Ereignis  $E$  und sein Komplement  $E^c$ .
- d) Falls  $A \cap B = \emptyset$  und  $P(A) = P(B) = 1/4$ . Dann ist  $odds(A \cup B) = 1/2$ .

10. Beurteilen Sie folgende Aussagen.

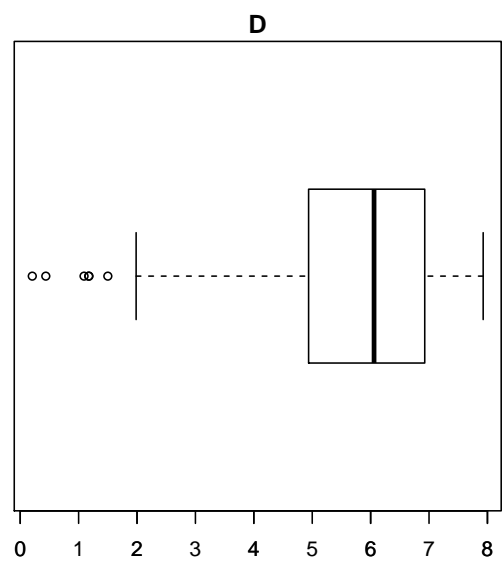
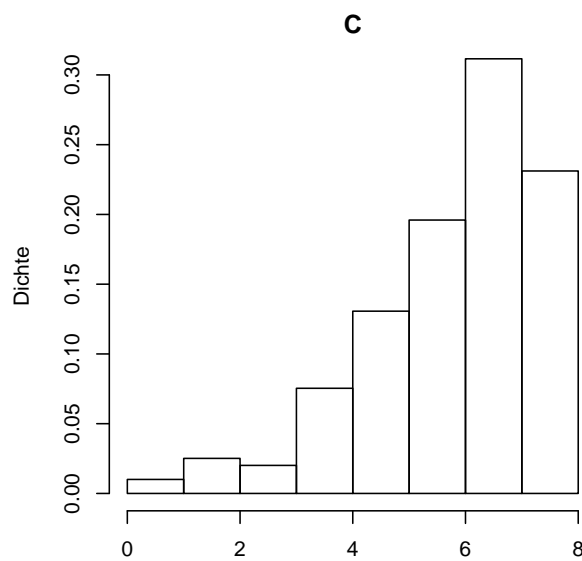
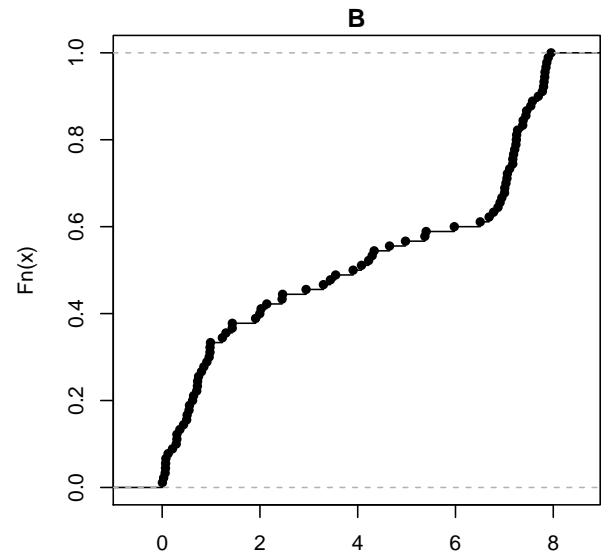
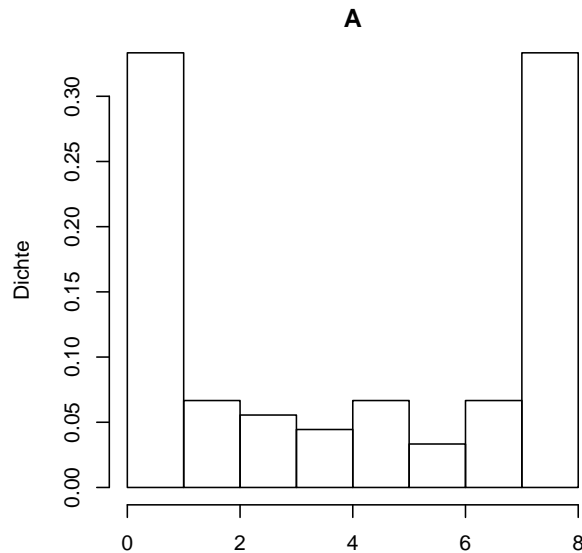
- a) Falls  $P(A|B) = 0.5$  und  $P(A \cap B) = 0.2$ , dann muss  $P(B) = 0.4$  sein.
- b) Falls  $P(A \cup B) = 0.6$  und  $P(A) = P(B) = 0.4$ , dann ist  $P(A|B) = 0.5$
- c) Falls  $P(A) = P(B) = 0.2$  mit  $A$  und  $B$  unabhängig. Dann gilt  $P(B|A) = 0$ .
- d) Falls  $P(A) \neq 0$  und  $P(B) \neq 0$ , wobei  $A$  und  $B$  disjunkt sind. Dann sind  $A$  und  $B$  unabhängig.



# Gruppe B

---

11. Betrachten Sie die nachfolgenden Plots.



Beurteilen Sie folgende Aussagen.

- Dem Histogramm in Plot **A** und der empirischen Verteilungsfunktion in Plot **B** liegen dieselben Daten zugrunde.
- Der empirischen Verteilungsfunktion im Plot **B** und dem Boxplot in Plot **D** liegen dieselben Daten zugrunde.
- Der Median der Daten, welche im Histogramm in Plot **C** dargestellt sind, liegt bei 4.
- Im Boxplot in Plot **D** liegen etwa 50% der Daten zwischen 5 und 7.

## Gruppe B

---

12. Es seien  $X_1, \dots, X_n \sim F$ , wobei  $F$  eine Verteilung ist mit Erwartungswert  $E[X_i] = \mu$  und endlicher Varianz  $\sigma_F^2$ . Beurteilen Sie folgende Aussagen.
- a) Falls  $X_1 = \dots = X_n$  gilt, sagt das  $\sqrt{n}$ -Gesetz aus, dass die Standardabweichung von  $\bar{X}_n = \frac{1}{n} \sum_{i=1}^n X_i$  proportional zu  $\frac{1}{\sqrt{n}}$  ist.
  - b) Damit der zentrale Grenzwertsatz gilt, müssen alle Zufallsvariablen  $X_1, \dots, X_n$  unabhängig sein.
  - c) Falls Unabhängigkeit gilt ( $X_1, \dots, X_n \stackrel{i.i.d.}{\sim} F$ ), dann sagt der zentrale Grenzwertsatz aus, dass die Verteilung von  $\bar{X}_n$  für grosses  $n$  gegen  $\mathcal{N}(\mu/n, \sigma^2/n)$  konvergiert.
  - d) Die Lebensdauer von normalen Batterien in Stirnlampen kann als unabhängig angenommen werden. Johannes möchte nun eine 4 stündige Höhlenexpedition unternehmen und fragt sich, wie viele Batterien er für die Stirnlampe mitnehmen sollte. Eine Batterie hält im Schnitt eine halbe Stunde ( $0.5h$ ) mit einer Standardabweichung von  $0.2h$ . Wenn Johannes 10 Batterien verwendet hat er mit einer Wahrscheinlichkeit von mehr als 95% Licht für die gesamte Expedition.

# Gruppe B

---

## Binomialverteilung und -test

13. Angenommen, die Zufallsvariablen  $X_i$  für  $i \in \{1, 2, 3, 4\}$  sind unabhängig und identisch verteilt mit Verteilung  $P(X_i = 0) = 0.2$  und  $P(X_i = 1) = 0.8$ . Dann gilt...
- a) Für alle  $i \in \{1, 2, 3, 4\}$  hat  $X_i$  die Verteilung  $Binomial(1, 0.2)$ .
  - b)  $E(X_1) = 0.8$ .
  - c)  $E(X_1 + X_2 + X_3 + X_4) = 3.2$ .
  - d) Angenommen,  $X \sim Bernoulli(\pi)$  und  $Y \sim Binomial(n, \pi)$ . Dann gilt allgemein, dass  $n \text{Var}(X) = \text{Var}(Y)$ .
14. Moritz tritt einen Ball gegen eine Torwand. Wir nehmen an, dass seine Schüsse unabhängig voneinander sind. Die Zufallsvariable  $X_i$  beschreibt das Ereignis, dass Moritz im  $i$ -ten Versuch trifft ( $X_i = 1$ ) oder verfehlt ( $X_i = 0$ ). Im Schnitt trifft Moritz in 10% der Fälle. Insgesamt schießt er 50 mal auf die Torwand. Sei die Anzahl Treffer  $Y$  definiert als  $Y = X_1 + X_2 + X_3 + \dots + X_{50}$ . Dann gilt ...
- a) Die Anzahl der fehlgeschlagenen Versuche berechnet man als  $1 - Y$ .
  - b)  $Y$  folgt einer Binomialverteilung mit  $n = 50$  und  $\pi = 0.1$ .
  - c) Es gilt  $P(Y < 25) > P(Y \geq 25)$ .
  - d) Bei den 50 Versuchen erwarten wir, dass Moritz 5 mal trifft.
15. Wir betrachten den Binomialtest für ( $n = 10$ ,  $\alpha = 0.05$ ) mit  $H_0 : \pi = 0.5$  und  $H_A : \pi > 0.5$ . Der beobachtete Wert der Teststatistik  $X$  ist  $x = 7$ . Beurteilen Sie folgende Aussagen.
- a) Der Verwerfungsbereich ist  $K = \{9, 10\}$ .
  - b) Der P-Wert der Daten ist 0.172.
  - c) Der P-Wert ist gleich  $P_{H_A}(X \in \{7, 8, 9, 10\})$ .
  - d) Je grösser der Fehler 1. Art, desto grösser ist die Macht.

## Gruppe B

---

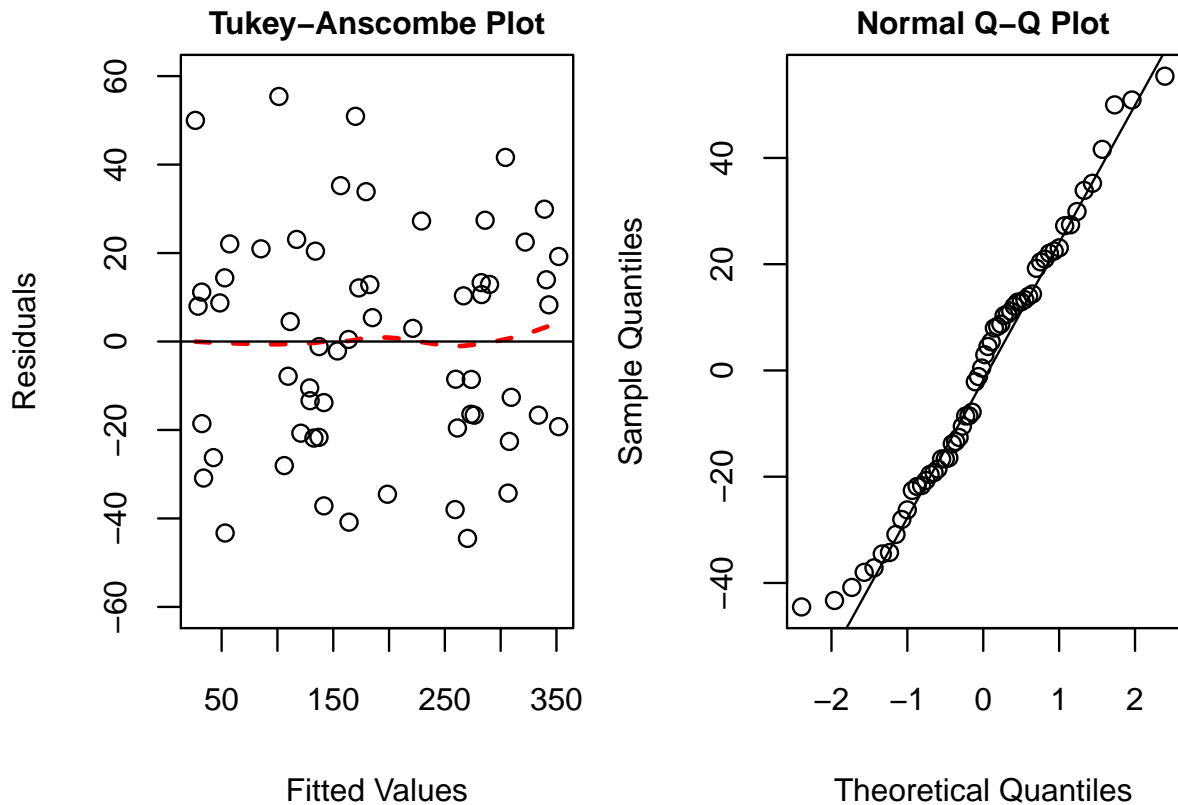
16. Beurteilen Sie folgende Aussagen.

- a) Die Faustregeln für die Normalapproximation einer Binomialverteilung sagen aus, dass bei einem Wert von  $\pi = 0.5$  mindestens  $n = 11$  Stichproben vorhanden sein müssen.
- b) Wenn  $X_1$  und  $X_2$  bernoulliverteilt mit gleichem Parameter  $\pi = 0.6$  sind, dann ist  $X_1 + X_2$  binomialverteilt mit  $n = 2$  und  $\pi = 0.6$ .
- c) Wenn  $Y_1$  und  $Y_2$  i.i.d.  $Binomial(n, p)$  verteilt sind, dann gilt  $Y_1 + Y_2 \sim Binomial(2n, p)$  verteilt.
- d) Auf einem Parkplatz stehen 7 rote Autos und 4 blaue Autos. Jemand bestimmt zufällig 3 Autos, welche abgeschleppt werden sollen. Die Anzahl der blauen Autos unter den 3 abgeschleppten Autos kann mit einer Binomialverteilung genau modelliert werden.

# Gruppe C

## Gemischte Fragen

1. Betrachten Sie die nachfolgenden Plots, welche die Residuen aus dem Regressionsmodell der Sprengstudie zeigen.



Beurteilen Sie folgende Aussagen.

- Der Mittelwert der Residuen ist in etwa 0.
- Die Normalitätsannahme ist erfüllt.
- Es gibt drei starke Ausreisser, daher sind die Parameterschätzungen der linearen Regression verfälscht.
- Angenommen, wir verwenden das quadrierte Sprengvolumen als Zielvariable ( $(\text{volumen}_i)^2 = \beta_0 + \beta_1 \text{tnt}_i + \varepsilon_i$ ). Dann ist dieses Regressionsmodell kein lineares Modell.

2. Beurteilen Sie folgende Aussagen.

- Seien  $E(X) = 1$ ,  $E(Y) = 1$  und  $E(Z) = 2$ , wobei  $X$ ,  $Y$  und  $Z$  unabhängig sind. Dann gilt  $E[X + Y] = E[X - Y + Z]$ .
- Sei  $\text{Var}(X) = 1$  und  $\text{Var}(Y) = 4$ , wobei  $X$  und  $Y$  unabhängig sind. Dann gilt  $\text{Var}[2X] = \text{Var}[Y]$ .
- Das arithmetische Mittel der Daten  $\{0, 1, 5\}$  ist 1.
- Die (empirisch) standardisierten Daten von  $\{1, 3, 5\}$  sind  $\{-1, 0, 1\}$ .

## Gruppe C

---

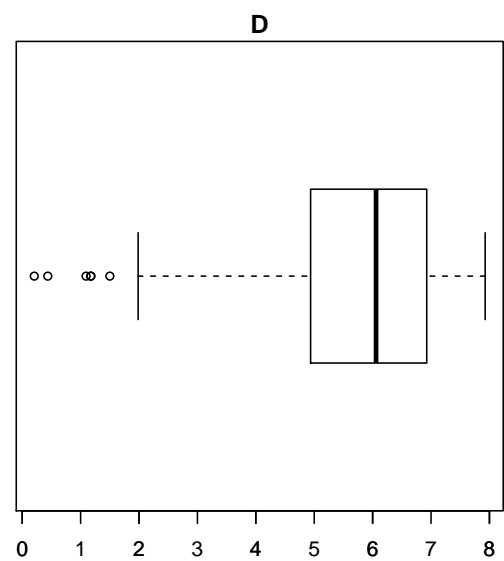
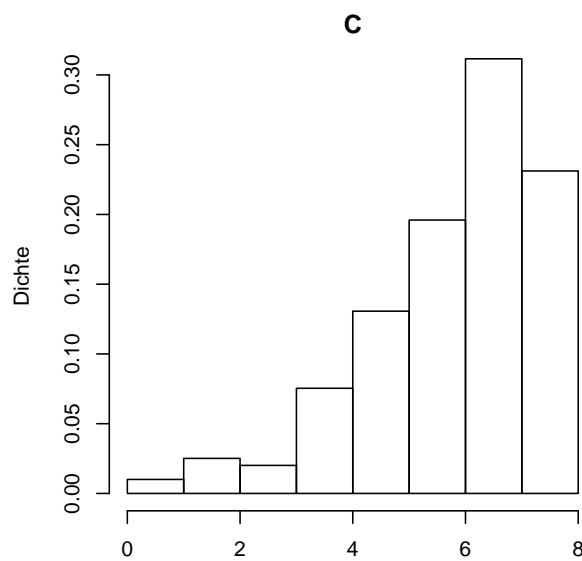
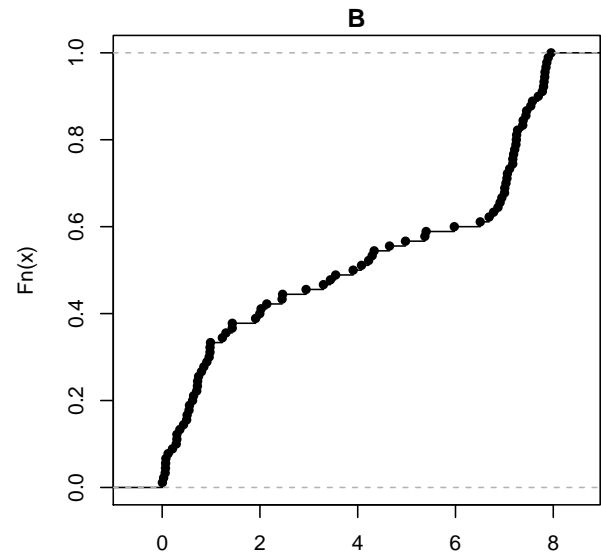
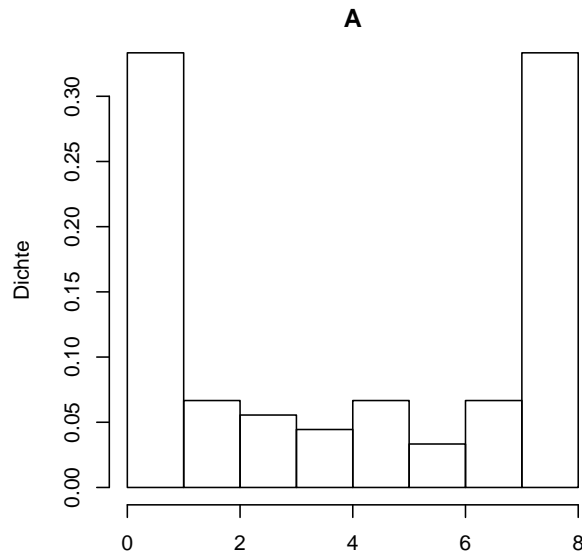
3. Beurteilen Sie folgende Aussagen.

- a) Falls  $P(A) = 0.2$  und  $P(B) = 0.8$ . Dann gilt immer, dass  $P(A \cup B) = 1$ .
- b) Falls  $P(E) < P(F)$ , dann gilt  $odds(E) < odds(F)$ .
- c) Es gilt  $odds(E^c) = \frac{1}{odds(E)}$  für ein Ereignis  $E$  und sein Komplement  $E^c$ .
- d) Falls  $A \cap B = \emptyset$  und  $P(A) = P(B) = 1/4$ . Dann ist  $odds(A \cup B) = 1/2$ .

4. Beurteilen Sie folgende Aussagen.

- a) Falls  $P(A|B) = 0.5$  und  $P(A \cap B) = 0.2$ , dann muss  $P(B) = 0.4$  sein.
- b) Falls  $P(A \cup B) = 0.6$  und  $P(A) = P(B) = 0.4$ , dann ist  $P(A|B) = 0.5$
- c) Falls  $P(A) = P(B) = 0.2$  mit  $A$  und  $B$  unabhängig. Dann gilt  $P(B|A) = 0$ .
- d) Falls  $P(A) \neq 0$  und  $P(B) \neq 0$ , wobei  $A$  und  $B$  disjunkt sind. Dann sind  $A$  und  $B$  unabhängig.

5. Betrachten Sie die nachfolgenden Plots.



Beurteilen Sie folgende Aussagen.

- Dem Histogramm in Plot **A** und der empirischen Verteilungsfunktion in Plot **B** liegen dieselben Daten zugrunde.
- Der empirischen Verteilungsfunktion im Plot **B** und dem Boxplot in Plot **D** liegen dieselben Daten zugrunde.
- Der Median der Daten, welche im Histogramm in Plot **C** dargestellt sind, liegt bei 4.
- Im Boxplot in Plot **D** liegen etwa 50% der Daten zwischen 5 und 7.

## Gruppe C

---

6. Es seien  $X_1, \dots, X_n \sim F$ , wobei  $F$  eine Verteilung ist mit Erwartungswert  $E[X_i] = \mu$  und endlicher Varianz  $\sigma_F^2$ . Beurteilen Sie folgende Aussagen.
- a) Falls  $X_1 = \dots = X_n$  gilt, sagt das  $\sqrt{n}$ -Gesetz aus, dass die Standardabweichung von  $\bar{X}_n = \frac{1}{n} \sum_{i=1}^n X_i$  proportional zu  $\frac{1}{\sqrt{n}}$  ist.
  - b) Damit der zentrale Grenzwertsatz gilt, müssen alle Zufallsvariablen  $X_1, \dots, X_n$  unabhängig sein.
  - c) Falls Unabhängigkeit gilt ( $X_1, \dots, X_n \stackrel{i.i.d.}{\sim} F$ ), dann sagt der zentrale Grenzwertsatz aus, dass die Verteilung von  $\bar{X}_n$  für grosses  $n$  gegen  $\mathcal{N}(\mu/n, \sigma^2/n)$  konvergiert.
  - d) Die Lebensdauer von normalen Batterien in Stirnlampen kann als unabhängig angenommen werden. Johannes möchte nun eine 4 stündige Höhlenexpedition unternehmen und fragt sich, wie viele Batterien er für die Stirnlampe mitnehmen sollte. Eine Batterie hält im Schnitt eine halbe Stunde ( $0.5h$ ) mit einer Standardabweichung von  $0.2h$ . Wenn Johannes 10 Batterien verwendet hat er mit einer Wahrscheinlichkeit von mehr als 95% Licht für die gesamte Expedition.



# Gruppe C

---

## Binomialverteilung und -test

7. Angenommen, die Zufallsvariablen  $X_i$  für  $i \in \{1, 2, 3, 4\}$  sind unabhängig und identisch verteilt mit Verteilung  $P(X_i = 0) = 0.2$  und  $P(X_i = 1) = 0.8$ . Dann gilt...
- a) Für alle  $i \in \{1, 2, 3, 4\}$  hat  $X_i$  die Verteilung  $Binomial(1, 0.2)$ .
  - b)  $E(X_1) = 0.8$ .
  - c)  $E(X_1 + X_2 + X_3 + X_4) = 3.2$ .
  - d) Angenommen,  $X \sim Bernoulli(\pi)$  und  $Y \sim Binomial(n, \pi)$ . Dann gilt allgemein, dass  $n \text{Var}(X) = \text{Var}(Y)$ .
8. Moritz tritt einen Ball gegen eine Torwand. Wir nehmen an, dass seine Schüsse unabhängig voneinander sind. Die Zufallsvariable  $X_i$  beschreibt das Ereignis, dass Moritz im  $i$ -ten Versuch trifft ( $X_i = 1$ ) oder verfehlt ( $X_i = 0$ ). Im Schnitt trifft Moritz in 10% der Fälle. Insgesamt schießt er 50 mal auf die Torwand. Sei die Anzahl Treffer  $Y$  definiert als  $Y = X_1 + X_2 + X_3 + \dots + X_{50}$ . Dann gilt ...
- a) Die Anzahl der fehlgeschlagenen Versuche berechnet man als  $1 - Y$ .
  - b)  $Y$  folgt einer Binomialverteilung mit  $n = 50$  und  $\pi = 0.1$ .
  - c) Es gilt  $P(Y < 25) > P(Y \geq 25)$ .
  - d) Bei den 50 Versuchen erwarten wir, dass Moritz 5 mal trifft.
9. Wir betrachten den Binomialtest für ( $n = 10$ ,  $\alpha = 0.05$ ) mit  $H_0 : \pi = 0.5$  und  $H_A : \pi > 0.5$ . Der beobachtete Wert der Teststatistik  $X$  ist  $x = 7$ . Beurteilen Sie folgende Aussagen.
- a) Der Verwerfungsbereich ist  $K = \{9, 10\}$ .
  - b) Der P-Wert der Daten ist 0.172.
  - c) Der P-Wert ist gleich  $P_{H_A}(X \in \{7, 8, 9, 10\})$ .
  - d) Je grösser der Fehler 1. Art, desto grösser ist die Macht.

## Gruppe C

---

10. Beurteilen Sie folgende Aussagen.

- a) Die Faustregeln für die Normalapproximation einer Binomialverteilung sagen aus, dass bei einem Wert von  $\pi = 0.5$  mindestens  $n = 11$  Stichproben vorhanden sein müssen.
- b) Wenn  $X_1$  und  $X_2$  bernoulliverteilt mit gleichem Parameter  $\pi = 0.6$  sind, dann ist  $X_1 + X_2$  binomialverteilt mit  $n = 2$  und  $\pi = 0.6$ .
- c) Wenn  $Y_1$  und  $Y_2$  i.i.d.  $Binomial(n, p)$  verteilt sind, dann gilt  $Y_1 + Y_2 \sim Binomial(2n, p)$  verteilt.
- d) Auf einem Parkplatz stehen 7 rote Autos und 4 blaue Autos. Jemand bestimmt zufällig 3 Autos, welche abgeschleppt werden sollen. Die Anzahl der blauen Autos unter den 3 abgeschleppten Autos kann mit einer Binomialverteilung genau modelliert werden.

# Gruppe C

---

## t-Test

11. In einer Studie wird ein neues Medikament zur Senkung des Augeninnendrucks getestet. Es wurden 40 Probanden über 4 Wochen hinweg mit dem Medikament behandelt. Dafür wurde bei jedem Proband das Medikament in das linke Auge getropft. Das rechte Auge wurde jeweils unbehandelt gelassen. Der Augeninnendruck des rechten bzw. des linken Auges pro Proband nach der Behandlung ist in der folgenden (unvollständigen) Tabelle aufgeführt:

Rechtes Auge $x_i$	14	23	15	...	31
Linkes Auge $y_i$	16	17	25	...	15

Wir nehmen an, dass die Messungen der jeweiligen Probanden unabhängig voneinander sind, sowie einer Normalverteilung folgen mit Erwartungswert  $\mu_x$  (rechtes Auge), beziehungsweise  $\mu_y$  (linkes Auge) und gleicher Standardabweichung  $\sigma$ .

Beurteilen Sie folgende Aussagen.

- Es handelt sich um gepaarte Stichproben.
  - Bei einem gepaarten t-Test müssen die Stichprobengrößen in beiden Gruppen gleich sein.
  - Wir können bei gepaarten Stichproben keinen ungepaarten t-Test verwenden.
  - Der z-Test setzt voraus, dass die wahre Standardabweichung bekannt ist.
12. Aus den Daten der Augen-Studie (vorherige Aufgabe) wurden folgende Kennzahlen ermittelt:  $\bar{x} = 19.8$ ,  $\bar{y} = 17.4$  und die geschätzte Varianz von  $X - Y$  ist  $\widehat{Var}(X - Y) = 4.2^2$ . Wir führen nun einen gepaarten t-Test durch. Wir legen den Test folgendermassen an:  $H_0 : \mu_x = \mu_y$ ,  $H_A : \mu_x > \mu_y$ .
- Die Macht des Tests für eine einseitige Alternativhypothese ist immer kleiner als für  $H_A : \mu_x \neq \mu_y$ .
  - Der beobachtete Wert der Teststatistik liegt zwischen 3.55 und 3.65.
  - Unter  $H_0$  folgt die Teststatistik einer  $t_{40}$ -Verteilung.
  - Angenommen, die Teststatistik wäre 1.60 und der Verwerfungsbereich des Tests wäre  $[1.69, \infty)$  für das Signifikanzniveau  $\alpha = 5\%$ . Dann wird die Nullhypothese auf dem 5%-Signifikanzniveau verworfen.

13. Beurteilen Sie folgende Aussagen.

- a) Für den Wilcoxon-Test können die Datenpunkte von einer beliebigen Verteilung stammen.
- b) Angenommen, wir würden die Differenzen  $\{x_1 - y_1, \dots, x_{40} - y_{40}\}$  aus der Augen-Studie betrachten. Nun führen wir auf diesem Datensatz einen Vorzeichen-Test durch, um eine Senkung des Augeninnendrucks durch das Medikament zu überprüfen. Die Verteilung der entsprechenden Teststatistik unter der Nullhypothese ist nun  $Binomial(40, 0.5)$ .
- c) Wir führen einen ungepaarten t-Test auf den Daten der Augen-Studie durch mit  $H_0 : \mu_x = \mu_y$  und  $H_A : \mu_x \neq \mu_y$ . Angenommen  $\bar{x} = 19.8$ ,  $\bar{y} = 17.4$ ,  $\hat{\sigma}_x = 3.8$  und  $\hat{\sigma}_y = 4.5$ . Die Teststatistik des ungepaarten t-Tests liegt zwischen 2.55 und 2.60.
- d) Angenommen, ein t-Test liefert einen P-Wert, der es uns erlaubt, die Nullhypothese auf dem 2.5%-Signifikanzniveau zu verwerfen. Dann können wir die Nullhypothese immer auch auf dem 1%-Signifikanzniveau verwerfen.

# Gruppe C

---

## Lineare Regression

14. Beurteilen Sie folgende Aussagen.

- a) Beim Vorzeichen-Test muss die wahre Standardabweichung der Zufallsvariablen bekannt sein.
- b) Die Nullhypothese des Vorzeichen-Tests lautet  $H_0 : \mu = \mu_0$ , wobei  $\mu$  der Median und  $\mu_0$  ein vorgegebener, bekannter Wert ist.
- c) Bei einem Einstichproben t-Test ( $H_0 : \mu = 0$ ,  $H_A : \mu > 0$ , 20 Beobachtungen insgesamt) ist der P-Wert 2.5%. Daher muss der beobachtete Wert der Teststatistik 2.09 gewesen sein (auf 2 Stellen gerundet).
- d) Wir führen einen Einstichproben t-Test ( $H_0 : \mu = 0$ ,  $H_A : \mu \neq 0$ , 24 Beobachtungen insgesamt) durch. Angenommen wir haben  $\bar{x} = 14.7$  und  $\hat{\sigma}_x = 2.5$ . Ein exaktes zweiseitiges 95%-Vertrauensintervall für  $\mu$  ist  $[13.64, 15.76]$  (auf 2 Stellen gerundet).

# Gruppe C

---

15. Lukas, der Sprengexperte, hat bei verschiedenen Sprengungen in Silber- und Goldminen die verwendete Menge TNT und das abgesprengte Volumen gemessen. Er möchte das abgesprengte Volumen (Variable `volumen`), gemessen in Kubikzentimetern  $cm^3$ , in Abhängigkeit der verwendeten Menge TNT (Variable `tnt`), gemessen in Gramm  $g$ , beschreiben. Hierfür verwendet er ein lineares Modell:

$$\text{volumen}_i = \beta_0 + \beta_1 \cdot \text{tnt}_i + \varepsilon_i, \quad \varepsilon_i \stackrel{\text{iid}}{\sim} \mathcal{N}(0, \sigma^2).$$

Der (unvollständige) Regressionsoutput sieht wie folgt aus:

Residuals:

Min	1Q	Median	3Q	Max
-44.50	-19.32	1.72	15.61	55.40

Coefficients:

	Estimate	Std. Error	t value	Pr(> t )
(Intercept)	6.6946	???	0.99	0.33
tnt	1.7324	0.0563	???	<2e-16 ***

---  
0 '\*\*\*' 0.001 '\*\*' 0.01 '\*' 0.05 '.' 0.1 ' ' 1

Residual standard error: 25.2 on 58 degrees of freedom

Multiple R-squared: 0.942, Adjusted R-squared: 0.941

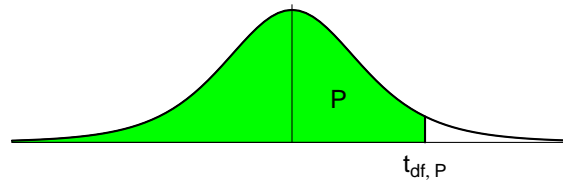
F-statistic: 947 on 1 and 58 DF, p-value: <2e-16

Beurteilen Sie folgende Aussagen.

- Die lineare Regression wurde basierend auf  $n = 60$  Datenpunkten berechnet.
  - Der geschätzte Standardfehler des Parameters  $\hat{\beta}_0$  ist 6.69.
  - $H_0 : \beta_1 = 0$  wird auf dem 5% Niveau verworfen.
  - Ein zweiseitiges 99%-Vertrauensintervall für  $\beta_1$  ist gegeben durch  $[1.58, 1.88]$ .  
(Das entsprechende 99.5% Quantil der t-Verteilung ist 2.67)
16. Mit Hilfe des geschätzten Modells aus der Sprengstudie (vorherige Aufgabe) wollen wir nun Vorhersagen machen. Beurteilen Sie folgende Aussagen.
- Wenn Lukas die Menge an eingesetztem TNT um  $2 g$  reduziert, dann reduziert sich das erwartete Sprengvolumen um  $0.866 cm^3$ .
  - Angenommen, Lukas hat mit dem Modell ein erwartetes Sprengvolumen von  $64 cm^3$  vorhergesagt. Dafür muss Lukas  $33.10 g$  TNT einsetzen.
  - Falls Lukas  $0.10 kg$  TNT verwendet, kann er im Mittel ein Volumen von  $180 cm^3$  sprengen.
  - Das 95%-Vorhersageintervall für das Sprengvolumen beschreibt den Bereich, in welchem sich das erwartete Sprengvolumen mit 95% Wahrscheinlichkeit befindet.



## Perzentile der t-Verteilung



Bsp.:  $t_{9; 0.975} = 2.262$

$df$	$t_{0.60}$	$t_{0.70}$	$t_{0.80}$	$t_{0.90}$	$t_{0.95}$	$t_{0.975}$	$t_{0.99}$	$t_{0.995}$
1	0.325	0.727	1.376	3.078	6.314	12.706	31.821	63.657
2	0.289	0.617	1.061	1.886	2.920	4.303	6.965	9.925
3	0.277	0.584	0.978	1.638	2.353	3.182	4.541	5.841
4	0.271	0.569	0.941	1.533	2.132	2.776	3.747	4.604
5	0.267	0.559	0.920	1.476	2.015	2.571	3.365	4.032
6	0.265	0.553	0.906	1.440	1.943	2.447	3.143	3.707
7	0.263	0.549	0.896	1.415	1.895	2.365	2.998	3.499
8	0.262	0.546	0.889	1.397	1.860	2.306	2.896	3.355
9	0.261	0.543	0.883	1.383	1.833	2.262	2.821	3.250
10	0.260	0.542	0.879	1.372	1.812	2.228	2.764	3.169
11	0.260	0.540	0.876	1.363	1.796	2.201	2.718	3.106
12	0.259	0.539	0.873	1.356	1.782	2.179	2.681	3.055
13	0.259	0.538	0.870	1.350	1.771	2.160	2.650	3.012
14	0.258	0.537	0.868	1.345	1.761	2.145	2.624	2.977
15	0.258	0.536	0.866	1.341	1.753	2.131	2.602	2.947
16	0.258	0.535	0.865	1.337	1.746	2.120	2.583	2.921
17	0.257	0.534	0.863	1.333	1.740	2.110	2.567	2.898
18	0.257	0.534	0.862	1.330	1.734	2.101	2.552	2.878
19	0.257	0.533	0.861	1.328	1.729	2.093	2.539	2.861
20	0.257	0.533	0.860	1.325	1.725	2.086	2.528	2.845
21	0.257	0.532	0.859	1.323	1.721	2.080	2.518	2.831
22	0.256	0.532	0.858	1.321	1.717	2.074	2.508	2.819
23	0.256	0.532	0.858	1.319	1.714	2.069	2.500	2.807
24	0.256	0.531	0.857	1.318	1.711	2.064	2.492	2.797
25	0.256	0.531	0.856	1.316	1.708	2.060	2.485	2.787
26	0.256	0.531	0.856	1.315	1.706	2.056	2.479	2.779
27	0.256	0.531	0.855	1.314	1.703	2.052	2.473	2.771
28	0.256	0.530	0.855	1.313	1.701	2.048	2.467	2.763
29	0.256	0.530	0.854	1.311	1.699	2.045	2.462	2.756
30	0.256	0.530	0.854	1.310	1.697	2.042	2.457	2.750
31	0.255	0.530	0.853	1.309	1.696	2.040	2.452	2.744
32	0.255	0.530	0.853	1.309	1.694	2.037	2.449	2.738
33	0.255	0.530	0.853	1.308	1.693	2.035	2.445	2.733
34	0.255	0.529	0.852	1.307	1.691	2.032	2.441	2.728
35	0.255	0.529	0.852	1.306	1.690	2.030	2.438	2.724
40	0.255	0.529	0.851	1.303	1.684	2.021	2.423	2.704
60	0.254	0.527	0.848	1.296	1.671	2.000	2.390	2.660
90	0.254	0.526	0.846	1.291	1.662	1.987	2.368	2.632
120	0.254	0.526	0.845	1.289	1.658	1.980	2.358	2.617
$\infty$	0.253	0.524	0.842	1.282	1.645	1.960	2.326	2.576