

Schriftliche Prüfung (90 Minuten)

Bemerkungen:

- Erlaubte Hilfsmittel: 10 hand- oder maschinengeschriebene A4 Seiten (=5 Blätter). Taschenrechner ohne Kommunikationsmöglichkeit.
- Mobiltelefone sind auszuschalten!
- Die Prüfung besteht aus insgesamt **16 Aufgaben**.
- Markieren Sie Ihre Antworten auf dem beiliegenden **Antwortblatt**.
- Jede Aufgabe besteht aus mehreren Aussagen. Pro Aufgabe können keine, eine oder mehrere Aussagen richtig sein.
- Für jede Aussage gibt es 1 Punkt, wenn sie korrekt markiert wird. 1 Punkt wird abgezogen, wenn eine Aussage falsch markiert wird. Wenn eine Aussage nicht markiert wird, gibt es keinen Punkt, es wird aber auch kein Punkt abgezogen. Die Punkte werden über die gesamte Prüfung summiert.
- Alle Rechnungsergebnisse sind auf 2 Nachkommastellen gerundet.
- Die nötigen Tabellen befinden sich auf den hintersten Seiten dieser Prüfung.
- Verweilen Sie nicht zu lange bei einem Aufgabenteil, der Ihnen grosse Schwierigkeiten bereitet!

Viel Erfolg!

Gruppe A

Binomialverteilung und -test

1. Angenommen eine Flaschenpost, welche in den Atlantik geworfen wird, wird mit 10% Wahrscheinlichkeit gefunden. Peter wirft nun 6 Flaschen in den Atlantik. Die Zufallsvariable X_i beschreibt, ob die Flasche i gefunden wurde ($X_i = 1$: gefunden, $X_i = 0$: nicht gefunden). Die Variablen X_i , $i = 1, \dots, 6$ können als unabhängig angenommen werden. Die Anzahl gefundener Flaschen kann folgendermassen definiert werden: $Y = \sum_{i=1}^6 X_i$. Es gilt ...
 - a) Y hat eine Binomialverteilung mit $n = 6$ und $\pi = 0.1$.
 - b) Angenommen $P(Y = 0) = 0.53$ und $P(Y = 1) = 0.35$, dann gilt $P(Y > 1) = 0.12$.
 - c) Man erwartet, dass **weniger** als eine Flasche gefunden wird.
 - d) Der Erwartungswert für die Anzahl nicht gefundener Flaschen ist $E[1 - X_1]$.
2. Angenommen $X_i \sim \text{Bernoulli}(0.7)$ i.i.d. für $i \in \{1, 2, 3, 4, 5, 6\}$, wobei $X_i = 0$ einen Misserfolg und $X_i = 1$ einen Erfolg bezeichnet. Dann gilt...
 - a) $E(X_1) = 0.7$.
 - b) $P(X_i = 0) = 0.7$ für alle $i \in \{1, 2, 3, 4, 5, 6\}$.
 - c) $P(X_1 = 0 \cap X_2 = 1) = 0.49$.
 - d) $\text{Var}(X_1 + X_2 + X_3 + X_4 + X_5 + X_6) = 6 \cdot (0.7 \cdot 0.3)$.
3. Bei einem Binomialtest ($n = 20, \alpha = 0.05$) mit $H_0 : \pi = 0.3$ und $H_A : \pi \neq 0.3$ wurde der Verwerfungsbereich $K = \{0, 1\} \cup \{11, \dots, 20\}$ konstruiert. Als Teststatistik X haben wir den Wert $x = 11$ erhalten. Beurteilen Sie folgende Aussagen.
 - a) Unter H_0 ist die Wahrscheinlichkeit $P(X = 11) = 0.012$.
 - b) Die Macht für die Alternativhypothese H_A ist $P_{H_A}(X \geq 11)$.
 - c) $P_{H_0}(X \notin K) \geq 0.95$.
 - d) Der P-Wert zur Beobachtung $x = 15$ ist $P_{H_0}(X \geq 15)$.
4. Bei einem Binomialtest ($n = 13, \alpha = 0.05$) mit $H_0 : \pi = 0.4$ und $H_A : \pi < 0.4$ beobachten wir den Wert $x = 2$ als Teststatistik. Beurteilen Sie folgende Aussagen.
 - a) Der P-Wert zu $x = 2$ ist kleiner als der p-Wert zur Beobachtung $x = 0$ (keine Rechnung nötig).
 - b) Die Macht für die Alternative mit $\pi = 0.3$ ist grösser als die Macht für die Alternative mit $\pi = 0.2$.
 - c) Der Verwerfungsbereich ist $K = \{0, 1, 2\}$.
 - d) Je grösser der Fehler 1. Art, desto grösser ist die Macht.

Gruppe A

t-Test

5. In einer Studie wird die Absorption von einem Eisenergänzungsmittel bei Männern und Frauen untersucht. Dafür wurde 18 Männern und 18 Frauen über 4 Wochen hinweg ein Eisenpräparat verabreicht. Vor und nach der Studie wurde bei den Probanden der Ferritin-Gehalt im Blutplasma gemessen. Ferritin ist ein Eisenspeicherprotein des Organismus und weist auf einen möglichen Eisenmangel hin. Die Differenz im Ferritingehalt je Proband ist in der folgenden Tabelle aufgeführt:

| | | | | | |
|----------------|----|----|----|-----|----|
| männlich x_i | 21 | 23 | 19 | ... | 27 |
| weiblich y_i | 13 | 22 | 18 | ... | 15 |

Wir nehmen an, dass die männlichen und weiblichen Ferritingehalte jeweils unabhängig voneinander sind, sowie einer Normalverteilung folgen mit Erwartungswert μ_x , beziehungsweise μ_y und gleicher Standardabweichung σ .

Beurteilen Sie folgende Aussagen.

- Es handelt sich um ungepaarte Stichproben.
 - Bei einem ungepaarten t-Test müssen die Stichprobengrößen in beiden Gruppen **nicht** gleich sein.
 - Der Welch-Test setzt voraus, dass die Messungen x_i und y_i ($i = 1, \dots, 18$) die gleiche Standardabweichung haben.
 - Bei gepaarten Stichproben hat der gepaarte t-Test in der Regel eine grössere Macht als der ungepaarte t-Test.
6. Aus den Daten der Eisen-Studie (vorherige Aufgabe) wurden folgende Kennzahlen ermittelt: $\bar{x} = 22.1$, $\bar{y} = 17.9$ und $\hat{\sigma}_x = 3.6$ und $\hat{\sigma}_y = 4.4$. Wir führen nun einen ungepaarten t-Test durch.
- Der beobachtete Wert der Teststatistik liegt zwischen 3.10 und 3.15.
 - Unter H_0 folgt die Teststatistik einer t_{36} -Verteilung.
 - Angenommen die Teststatistik wäre 0.72 und der Verwerfungsbereich des Tests $H_0 : \mu_x = \mu_y$, $H_A : \mu_x \neq \mu_y$ wäre $(-\infty, -2.03] \cup [2.03, \infty)$ für das Signifikanzniveau $\alpha = 5\%$, dann wird die Nullhypothese auf dem 5%-Signifikanzniveau nicht verworfen.
 - Wenn wir den Test folgendermassen anlegen: $H_0 : \mu_x = \mu_y$, $H_A : \mu_x \neq \mu_y$, ist die Macht des Tests grösser als für eine einseitige Alternativhypothese.

Gruppe A

7. Beurteilen Sie folgende Aussagen.

- a) Bei einem Einstichproben t-Test ($H_0 : \mu = 0$, $H_A : \mu > 0$, 25 Beobachtungen insgesamt) ist der beobachtete Wert der Teststatistik 2.49. Dann ist der P-Wert etwa 1%.
- b) Beim t-Test muss die wahre Standardabweichung der Zufallsvariablen nicht bekannt sein.
- c) Angenommen wir haben $X_1, \dots, X_n \stackrel{\text{iid}}{\sim} \mathcal{N}(\mu, \sigma^2)$, wobei die Standardabweichung ($\sigma = 2$) exakt bekannt ist. Wir wollen, dass die Breite des zweiseitigen 95%-Vertrauensintervalls für μ höchstens 2 beträgt. Dazu bräuchten wir mindestens $n = 16$ Datenpunkte.
- d) Beim Wilcoxon-Test müssen die Daten normalverteilt sein.

Gruppe A

Lineare Regression

8. Herr Sigrist testet ein neues Pestizid an seinen Tomaten. Dafür teilt er das Tomatenbeet in n Bereiche mit je 10 m^2 Fläche und misst für jedes Feld den Ertrag in kg Tomaten (Variable `ertrag`). Er möchte diesen Ertrag in Abhängigkeit der verwendeten Pestizidmenge (Variable `pestizid`), gemessen in Liter l , beschreiben. Hierfür verwendet er ein lineares Modell:

$$\text{ertrag}_i = \beta_0 + \beta_1 \cdot \text{pestizid}_i + \varepsilon_i, \quad \varepsilon_i \stackrel{\text{iid}}{\sim} \mathcal{N}(0, \sigma^2).$$

Der (unvollständige) Regressionsoutput sieht wie folgt aus:

Residuals:

| Min | 1Q | Median | 3Q | Max |
|--------|-------|--------|-------|-------|
| -86.00 | -9.96 | 3.17 | 10.99 | 35.86 |

Coefficients:

| | Estimate | Std. Error | t value | Pr(> t) |
|-------------|----------|------------|---------|-------------|
| (Intercept) | 3.0437 | 6.5182 | ??? | 0.64 |
| pestizid | 0.5471 | 0.0612 | 8.93 | 1.3e-11 *** |

0 '***' 0.001 '**' 0.01 '*' 0.05 '.' 0.1 ' ' 1

Residual standard error: 21.6 on 46 degrees of freedom

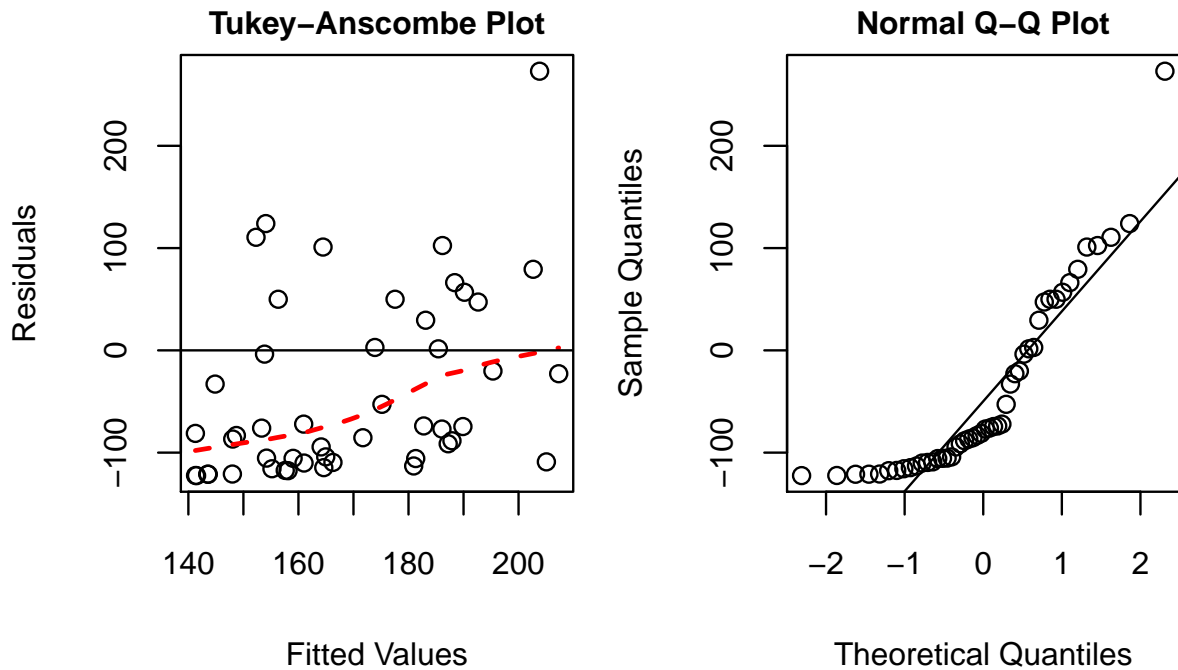
Multiple R-squared: 0.634, Adjusted R-squared: 0.626

Beurteilen Sie folgende Aussagen.

- Der Effekt der Pestizidmenge ist signifikant auf dem 1%-Niveau.
 - Der t-Wert von β_0 ist 0.47.
 - Ein approximatives, zweiseitiges 95%-Vertrauensintervall für β_1 ist gegeben durch $[0.42, 0.67]$.
 - Die lineare Regression wurde basierend auf $n = 47$ Datenpunkten berechnet.
9. Mit Hilfe des Modells aus der Pestizid-Studie (vorherige Aufgabe) wollen wir nun Vorhersagen machen. Beurteilen Sie folgende Aussagen.
- Falls man im Sinne eines biologischen Anbaus ganz auf den Einsatz von Pestiziden verzichten möchte, so hätte man gemäss des Modells einen erwarteten Ertrag von 3.04 kg pro Bereich.
 - Angenommen man hat mit dem Modell einen erwarteten Ertrag von 30 kg pro Bereich vorhergesagt, dann hat Herr Sigrist etwa 16.41 l Pestizid eingesetzt.
 - Falls die Pestizidmenge um 8 l erhöht wird, so erhöht sich der erwartete Ertrag um etwa 7.42 kg pro Bereich.
 - Das 95%-Vorhersageintervall für den Ertrag ist immer breiter als das 95%-Vertrauensintervall für den erwarteten Ertrag bei gleicher Pestizidmenge.

Gruppe A

10. Betrachten Sie die nachfolgenden Plots, welche die Residuen aus dem Regressionsmodell der Pestizid-Studie zeigen.



Beurteilen Sie folgende Aussagen.

- a) Der Mittelwert der Residuen ist in etwa 0.
- b) Die Fehlervarianz ist in etwa konstant.
- c) Sowohl der Tukey-Anscombe wie auch der QQ Plot deuten auf einen Ausreisser hin. Es wäre ratsam, diesen Ausreisser von der Analyse auszuschliessen oder robuste Methoden zu verwenden.
- d) Die Normalitätsannahme ist erfüllt.

Gruppe A

Gemischte Fragen

11. Beurteilen Sie folgende Aussagen.

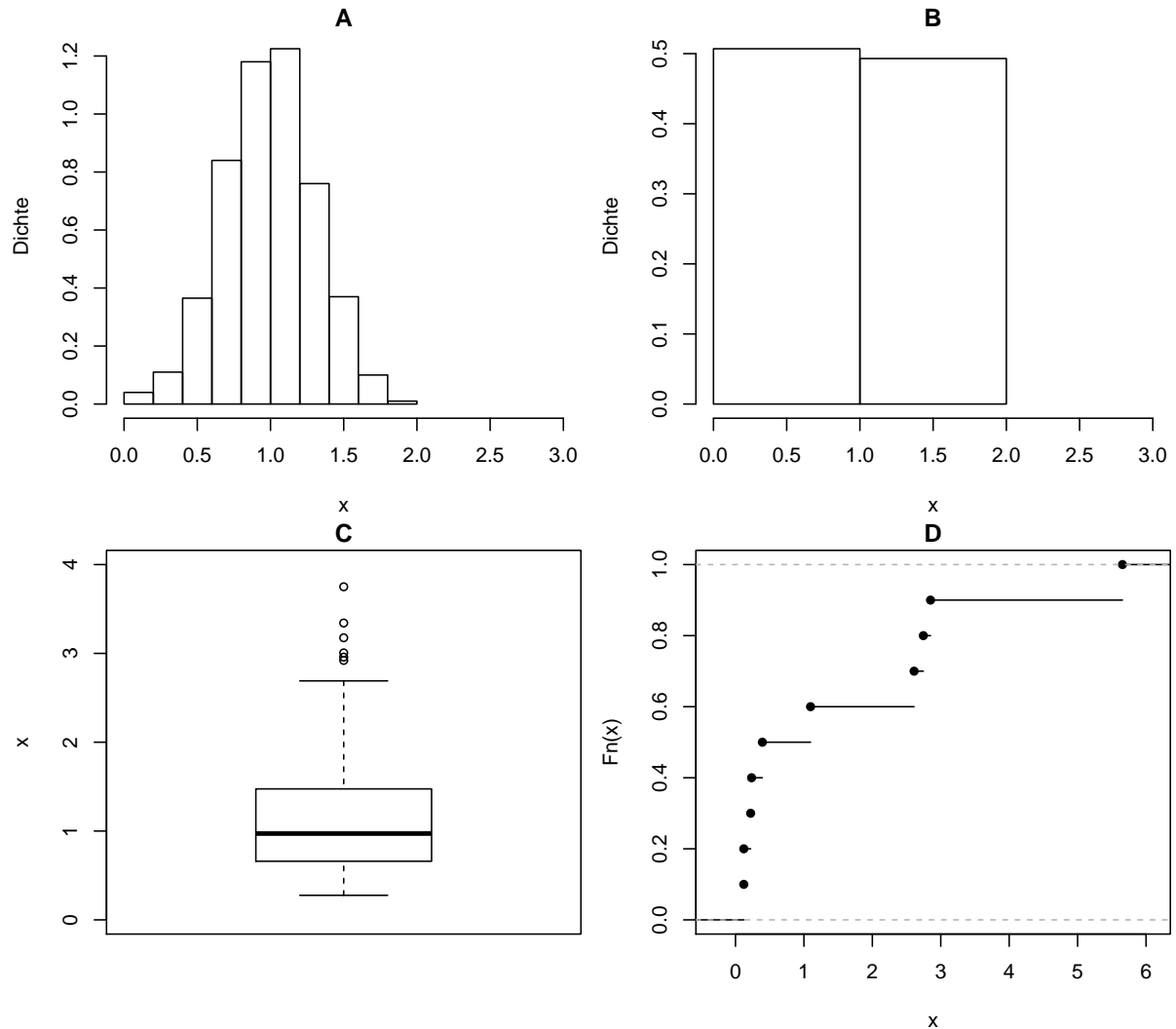
- a) Sei $E(X) = 3$ und $E(Y) = 5$, wobei X und Y unabhängig sind.
Dann gilt $E[3(Y - X) - 1] = 5$.
- b) Sei $Var(X) = Var(Y) = 1$, wobei X und Y unabhängig sind.
Dann gilt $Var[Y - X + 1] = 0$.
- c) Die empirische Standardabweichung der Daten $\{1, 2, 2, 1, 5\}$ ist 2.70.
- d) Das empirische 20%-Quantil der Daten $\{1, 5, 4, 1, 6\}$ ist 1.

12. Beurteilen Sie folgende Aussagen.

- a) Sei $Y := 1 + 2X^2$, wobei X eine Zufallsvariable ist, dann ist die Korrelation zwischen X^2 und Y **nicht** gleich 1.
- b) Bei einer einfachen linearen Regression des Intelligenzquotienten (IQ) auf getrunzene Kaffeemenge (K) basierend auf 100 zufällig gewählten Testkandidaten wird $\hat{\beta}_1 = -5$ geschätzt und der t-Test zu $H_0 : \beta_1 = 0$ ist auf 1% signifikant (Regressionsmodell: $IQ_i = \beta_0 + \beta_1 K_i + \epsilon_i$, wobei ϵ_i i.i.d. Fehler). Wir können daraus schliessen, dass ein hoher IQ einen tiefen Kaffeekonsum verursacht.
- c) Wir betrachten 2 Schüsseln mit jeweils 10 Kugeln. In Schüssel A sind 4 schwarze und 6 weisse Kugeln. In Schüssel B gibt es keine schwarze Kugeln, d.h. alle 10 Kugeln sind weiss. Unsere Strategie ist wie folgt:
Wir wählen zufällig ($p = 0.5$) entweder A oder B aus und ziehen danach blind aus der ausgewählten Schüssel eine Kugel.
Die Wahrscheinlichkeit, eine weisse Kugel zu ziehen, ist 0.8.
- d) Wir nehmen dieselben Schüsseln und Zuteilungen der Kugeln wie in Teilaufgabe c), aber wählen eine neue Strategie:
Die Kugeln aus Schüssel A und B werden in eine grosse Schüssel C geleert und danach ziehen wir blind eine Kugel.
Die Wahrscheinlichkeit, eine weisse Kugel zu ziehen, ist 0.8.

Gruppe A

13. Betrachten Sie die nachfolgenden Plots.



Beurteilen Sie folgende Aussagen.

- Histogramm **A** und Histogramm **B** können **nicht** von den gleichen Daten stammen.
- Histogramm **A** zeigt eine symmetrische Verteilung.
- Boxplot **C** beschreibt die gleichen Daten wie Histogramm **A**.
- Histogramm **B** und die empirische Verteilungsfunktion in Plot **D** können von den gleichen Daten stammen.

Gruppe A

14. Beim Austragen von Briefen gibt es die folgenden Ereignisse:
 S = Brief hat eine städtische Adresse, S^C = Brief hat eine ländliche Adresse,
 B = Brief kommt an, B^C = Brief kommt nicht an.
Ein Brief hat mit 60% Wahrscheinlichkeit eine städtische Adresse. Aus Erfahrung kommen 80% der Briefe an, welche eine städtische Adresse haben.
- a) Die Wahrscheinlichkeit, dass ein Brief eine städtische Adresse hat und ankommt, ist 0.48.
 - b) Falls $P(B|S^C)$ bekannt wäre, könnte man die Wahrscheinlichkeit für $P(B)$ mit den gegebenen Wahrscheinlichkeiten berechnen.
 - c) Die Ereignisse S und B sind unabhängig, falls $P(B) = 0.8$.
 - d) Angenommen A und B sind zwei disjunkte Ereignisse mit $P(A) \neq 0$ und $P(B) \neq 0$. Dann ist $P(A|B) = 1$.
15. Beurteilen Sie folgende Aussagen.
- a) Falls $P(A) = 0.3$, $P(B) = 0.4$ und $P(A \cup B) = 0.58$. Dann gilt, dass die Ereignisse A und B unabhängig sind.
 - b) Falls $P(G) = 1/2$ und $P(E \cap G) = 1/3$, dann gilt $odds(E | G) = 2$.
 - c) Ein Meteorologe macht die Vorhersage: $odds(\text{Regen}) = 0.01$. Es ist sinnvoll, den Regenschirm mitzunehmen.
 - d) Falls $0 < P(B) = \frac{1}{2}P(A) < 1$, dann gilt $odds(B) = \frac{1}{2}odds(A)$.
16. Es seien $X_1, \dots, X_n \stackrel{i.i.d.}{\sim} F$, wobei F eine Verteilung ist mit Erwartungswert $E[X_i] = \mu$, und endlicher Varianz σ_F^2 . Beurteilen Sie folgende Aussagen.
- a) Der zentrale Grenzwertsatz sagt: Das arithmetische Mittel von diesen Zufallsvariablen folgt approximativ einer Normalverteilung mit einer Varianz σ^2 und einem Erwartungswert μ , welcher mit grösser werdendem n gegen 0 geht.
 - b) Die Verteilung F muss nicht bekannt sein, damit der zentrale Grenzwertsatz anwendbar ist.
 - c) Der zentrale Grenzwertsatz sagt aus, dass jedes F immer mit einer Normalverteilung approximiert werden kann.
 - d) Max organisiert eine Party und möchte dafür 7 l Orangensaft selber pressen. Eine Orange liefert im Schnitt 0.2 l Orangensaft mit einer Standardabweichung von 0.08 l. Max kauft 40 Orangen. Die Wahrscheinlichkeit, dass er aus 40 Orangen weniger als 7 l Saft erhält, ist kleiner als 0.01.

Gruppe B

t-Test

1. In einer Studie wird die Absorption von einem Eisenergänzungsmittel bei Männern und Frauen untersucht. Dafür wurde 18 Männern und 18 Frauen über 4 Wochen hinweg ein Eisenpräparat verabreicht. Vor und nach der Studie wurde bei den Probanden der Ferritin-Gehalt im Blutplasma gemessen. Ferritin ist ein Eisenspeicherprotein des Organismus und weist auf einen möglichen Eisenmangel hin. Die Differenz im Ferritingehalt je Proband ist in der folgenden Tabelle aufgeführt:

| | | | | | |
|----------------|----|----|----|-----|----|
| männlich x_i | 21 | 23 | 19 | ... | 27 |
| weiblich y_i | 13 | 22 | 18 | ... | 15 |

Wir nehmen an, dass die männlichen und weiblichen Ferritingehalte jeweils unabhängig voneinander sind, sowie einer Normalverteilung folgen mit Erwartungswert μ_x , beziehungsweise μ_y und gleicher Standardabweichung σ .

Beurteilen Sie folgende Aussagen.

- Es handelt sich um ungepaarte Stichproben.
 - Bei einem ungepaarten t-Test müssen die Stichprobengrößen in beiden Gruppen **nicht** gleich sein.
 - Der Welch-Test setzt voraus, dass die Messungen x_i und y_i ($i = 1, \dots, 18$) die gleiche Standardabweichung haben.
 - Bei gepaarten Stichproben hat der gepaarte t-Test in der Regel eine grössere Macht als der ungepaarte t-Test.
2. Aus den Daten der Eisen-Studie (vorherige Aufgabe) wurden folgende Kennzahlen ermittelt: $\bar{x} = 22.1$, $\bar{y} = 17.9$ und $\hat{\sigma}_x = 3.6$ und $\hat{\sigma}_y = 4.4$. Wir führen nun einen ungepaarten t-Test durch.
- Der beobachtete Wert der Teststatistik liegt zwischen 3.10 und 3.15.
 - Unter H_0 folgt die Teststatistik einer t_{36} -Verteilung.
 - Angenommen die Teststatistik wäre 0.72 und der Verwerfungsbereich des Tests $H_0 : \mu_x = \mu_y$, $H_A : \mu_x \neq \mu_y$ wäre $(-\infty, -2.03] \cup [2.03, \infty)$ für das Signifikanzniveau $\alpha = 5\%$, dann wird die Nullhypothese auf dem 5%-Signifikanzniveau nicht verworfen.
 - Wenn wir den Test folgendermassen anlegen: $H_0 : \mu_x = \mu_y$, $H_A : \mu_x \neq \mu_y$, ist die Macht des Tests grösser als für eine einseitige Alternativhypothese.

Gruppe B

3. Beurteilen Sie folgende Aussagen.

- a) Bei einem Einstichproben t-Test ($H_0 : \mu = 0$, $H_A : \mu > 0$, 25 Beobachtungen insgesamt) ist der beobachtete Wert der Teststatistik 2.49. Dann ist der P-Wert etwa 1%.
- b) Beim t-Test muss die wahre Standardabweichung der Zufallsvariablen nicht bekannt sein.
- c) Angenommen wir haben $X_1, \dots, X_n \stackrel{\text{iid}}{\sim} \mathcal{N}(\mu, \sigma^2)$, wobei die Standardabweichung ($\sigma = 2$) exakt bekannt ist. Wir wollen, dass die Breite des zweiseitigen 95%-Vertrauensintervalls für μ höchstens 2 beträgt. Dazu bräuchten wir mindestens $n = 16$ Datenpunkte.
- d) Beim Wilcoxon-Test müssen die Daten normalverteilt sein.

Gruppe B

Lineare Regression

4. Herr Sigrist testet ein neues Pestizid an seinen Tomaten. Dafür teilt er das Tomatenbeet in n Bereiche mit je 10 m^2 Fläche und misst für jedes Feld den Ertrag in kg Tomaten (Variable `ertrag`). Er möchte diesen Ertrag in Abhängigkeit der verwendeten Pestizidmenge (Variable `pestizid`), gemessen in Liter l , beschreiben. Hierfür verwendet er ein lineares Modell:

$$\text{ertrag}_i = \beta_0 + \beta_1 \cdot \text{pestizid}_i + \varepsilon_i, \quad \varepsilon_i \stackrel{\text{iid}}{\sim} \mathcal{N}(0, \sigma^2).$$

Der (unvollständige) Regressionsoutput sieht wie folgt aus:

Residuals:

| Min | 1Q | Median | 3Q | Max |
|--------|-------|--------|-------|-------|
| -86.00 | -9.96 | 3.17 | 10.99 | 35.86 |

Coefficients:

| | Estimate | Std. Error | t value | Pr(> t) |
|-------------|----------|------------|---------|-------------|
| (Intercept) | 3.0437 | 6.5182 | ??? | 0.64 |
| pestizid | 0.5471 | 0.0612 | 8.93 | 1.3e-11 *** |

0 '***' 0.001 '**' 0.01 '*' 0.05 '.' 0.1 ' ' 1

Residual standard error: 21.6 on 46 degrees of freedom

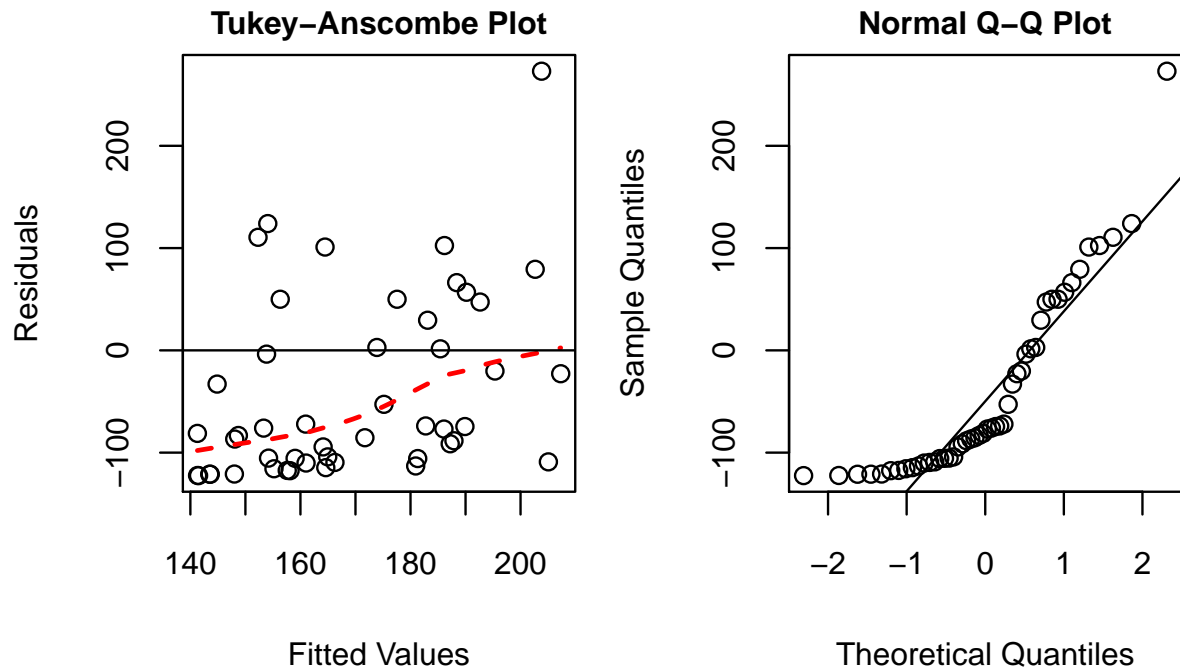
Multiple R-squared: 0.634, Adjusted R-squared: 0.626

Beurteilen Sie folgende Aussagen.

- Der Effekt der Pestizidmenge ist signifikant auf dem 1%-Niveau.
 - Der t-Wert von β_0 ist 0.47.
 - Ein approximatives, zweiseitiges 95%-Vertrauensintervall für β_1 ist gegeben durch $[0.42, 0.67]$.
 - Die lineare Regression wurde basierend auf $n = 47$ Datenpunkten berechnet.
5. Mit Hilfe des Modells aus der Pestizid-Studie (vorherige Aufgabe) wollen wir nun Vorhersagen machen. Beurteilen Sie folgende Aussagen.
- Falls man im Sinne eines biologischen Anbaus ganz auf den Einsatz von Pestiziden verzichten möchte, so hätte man gemäss des Modells einen erwarteten Ertrag von 3.04 kg pro Bereich.
 - Angenommen man hat mit dem Modell einen erwarteten Ertrag von 30 kg pro Bereich vorhergesagt, dann hat Herr Sigrist etwa 16.41 l Pestizid eingesetzt.
 - Falls die Pestizidmenge um 8 l erhöht wird, so erhöht sich der erwartete Ertrag um etwa 7.42 kg pro Bereich.
 - Das 95%-Vorhersageintervall für den Ertrag ist immer breiter als das 95%-Vertrauensintervall für den erwarteten Ertrag bei gleicher Pestizidmenge.

Gruppe B

6. Betrachten Sie die nachfolgenden Plots, welche die Residuen aus dem Regressionsmodell der Pestizid-Studie zeigen.



Beurteilen Sie folgende Aussagen.

- Der Mittelwert der Residuen ist in etwa 0.
- Die Fehlervarianz ist in etwa konstant.
- Sowohl der Tukey-Anscombe wie auch der QQ Plot deuten auf einen Ausreisser hin. Es wäre ratsam, diesen Ausreisser von der Analyse auszuschliessen oder robuste Methoden zu verwenden.
- Die Normalitätsannahme ist erfüllt.

Gruppe B

Gemischte Fragen

7. Beurteilen Sie folgende Aussagen.

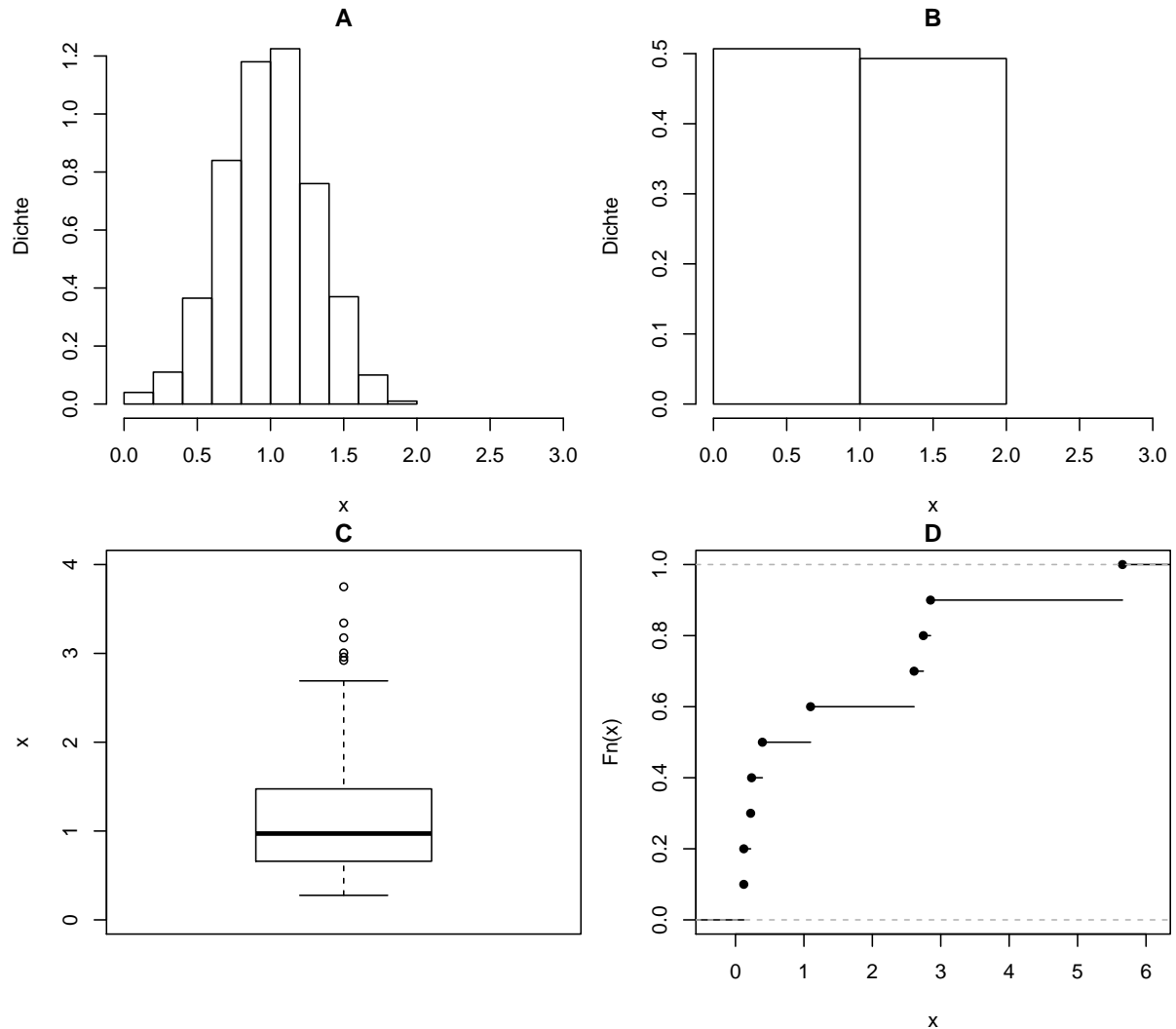
- a) Sei $E(X) = 3$ und $E(Y) = 5$, wobei X und Y unabhängig sind.
Dann gilt $E[3(Y - X) - 1] = 5$.
- b) Sei $Var(X) = Var(Y) = 1$, wobei X und Y unabhängig sind.
Dann gilt $Var[Y - X + 1] = 0$.
- c) Die empirische Standardabweichung der Daten $\{1, 2, 2, 1, 5\}$ ist 2.70.
- d) Das empirische 20%-Quantil der Daten $\{1, 5, 4, 1, 6\}$ ist 1.

8. Beurteilen Sie folgende Aussagen.

- a) Sei $Y := 1 + 2X^2$, wobei X eine Zufallsvariable ist, dann ist die Korrelation zwischen X^2 und Y **nicht** gleich 1.
- b) Bei einer einfachen linearen Regression des Intelligenzquotienten (IQ) auf getrunzene Kaffeemenge (K) basierend auf 100 zufällig gewählten Testkandidaten wird $\hat{\beta}_1 = -5$ geschätzt und der t-Test zu $H_0 : \beta_1 = 0$ ist auf 1% signifikant (Regressionsmodell: $IQ_i = \beta_0 + \beta_1 K_i + \epsilon_i$, wobei ϵ_i i.i.d. Fehler). Wir können daraus schliessen, dass ein hoher IQ einen tiefen Kaffeekonsum verursacht.
- c) Wir betrachten 2 Schüsseln mit jeweils 10 Kugeln. In Schüssel A sind 4 schwarze und 6 weisse Kugeln. In Schüssel B gibt es keine schwarze Kugeln, d.h. alle 10 Kugeln sind weiss. Unsere Strategie ist wie folgt:
Wir wählen zufällig ($p = 0.5$) entweder A oder B aus und ziehen danach blind aus der ausgewählten Schüssel eine Kugel.
Die Wahrscheinlichkeit, eine weisse Kugel zu ziehen, ist 0.8.
- d) Wir nehmen dieselben Schüsseln und Zuteilungen der Kugeln wie in Teilaufgabe c), aber wählen eine neue Strategie:
Die Kugeln aus Schüssel A und B werden in eine grosse Schüssel C geleert und danach ziehen wir blind eine Kugel.
Die Wahrscheinlichkeit, eine weisse Kugel zu ziehen, ist 0.8.

Gruppe B

9. Betrachten Sie die nachfolgenden Plots.



Beurteilen Sie folgende Aussagen.

- Histogramm **A** und Histogramm **B** können **nicht** von den gleichen Daten stammen.
- Histogramm **A** zeigt eine symmetrische Verteilung.
- Boxplot **C** beschreibt die gleichen Daten wie Histogramm **A**.
- Histogramm **B** und die empirische Verteilungsfunktion in Plot **D** können von den gleichen Daten stammen.

Gruppe B

10. Beim Austragen von Briefen gibt es die folgenden Ereignisse:
 S = Brief hat eine städtische Adresse, S^C = Brief hat eine ländliche Adresse,
 B = Brief kommt an, B^C = Brief kommt nicht an.
Ein Brief hat mit 60% Wahrscheinlichkeit eine städtische Adresse. Aus Erfahrung kommen 80% der Briefe an, welche eine städtische Adresse haben.
- a) Die Wahrscheinlichkeit, dass ein Brief eine städtische Adresse hat und ankommt, ist 0.48.
 - b) Falls $P(B|S^C)$ bekannt wäre, könnte man die Wahrscheinlichkeit für $P(B)$ mit den gegebenen Wahrscheinlichkeiten berechnen.
 - c) Die Ereignisse S und B sind unabhängig, falls $P(B) = 0.8$.
 - d) Angenommen A und B sind zwei disjunkte Ereignisse mit $P(A) \neq 0$ und $P(B) \neq 0$. Dann ist $P(A|B) = 1$.
11. Beurteilen Sie folgende Aussagen.
- a) Falls $P(A) = 0.3$, $P(B) = 0.4$ und $P(A \cup B) = 0.58$. Dann gilt, dass die Ereignisse A und B unabhängig sind.
 - b) Falls $P(G) = 1/2$ und $P(E \cap G) = 1/3$, dann gilt $odds(E | G) = 2$.
 - c) Ein Meteorologe macht die Vorhersage: $odds(\text{Regen}) = 0.01$. Es ist sinnvoll, den Regenschirm mitzunehmen.
 - d) Falls $0 < P(B) = \frac{1}{2}P(A) < 1$, dann gilt $odds(B) = \frac{1}{2}odds(A)$.
12. Es seien $X_1, \dots, X_n \stackrel{i.i.d.}{\sim} F$, wobei F eine Verteilung ist mit Erwartungswert $E[X_i] = \mu$, und endlicher Varianz σ_F^2 . Beurteilen Sie folgende Aussagen.
- a) Der zentrale Grenzwertsatz sagt: Das arithmetische Mittel von diesen Zufallsvariablen folgt approximativ einer Normalverteilung mit einer Varianz σ^2 und einem Erwartungswert μ , welcher mit grösser werdendem n gegen 0 geht.
 - b) Die Verteilung F muss nicht bekannt sein, damit der zentrale Grenzwertsatz anwendbar ist.
 - c) Der zentrale Grenzwertsatz sagt aus, dass jedes F immer mit einer Normalverteilung approximiert werden kann.
 - d) Max organisiert eine Party und möchte dafür 7 l Orangensaft selber pressen. Eine Orange liefert im Schnitt 0.2 l Orangensaft mit einer Standardabweichung von 0.08 l. Max kauft 40 Orangen. Die Wahrscheinlichkeit, dass er aus 40 Orangen weniger als 7 l Saft erhält, ist kleiner als 0.01.

Gruppe B

Binomialverteilung und -test

13. Angenommen eine Flaschenpost, welche in den Atlantik geworfen wird, wird mit 10% Wahrscheinlichkeit gefunden. Peter wirft nun 6 Flaschen in den Atlantik. Die Zufallsvariable X_i beschreibt, ob die Flasche i gefunden wurde ($X_i = 1$: gefunden, $X_i = 0$: nicht gefunden). Die Variablen X_i , $i = 1, \dots, 6$ können als unabhängig angenommen werden. Die Anzahl gefundener Flaschen kann folgendermassen definiert werden: $Y = \sum_{i=1}^6 X_i$. Es gilt ...
- Y hat eine Binomialverteilung mit $n = 6$ und $\pi = 0.1$.
 - Angenommen $P(Y = 0) = 0.53$ und $P(Y = 1) = 0.35$, dann gilt $P(Y > 1) = 0.12$.
 - Man erwartet, dass **weniger** als eine Flasche gefunden wird.
 - Der Erwartungswert für die Anzahl nicht gefundener Flaschen ist $E[1 - X_1]$.
14. Angenommen $X_i \sim \text{Bernoulli}(0.7)$ i.i.d. für $i \in \{1, 2, 3, 4, 5, 6\}$, wobei $X_i = 0$ einen Misserfolg und $X_i = 1$ einen Erfolg bezeichnet. Dann gilt...
- $E(X_1) = 0.7$.
 - $P(X_i = 0) = 0.7$ für alle $i \in \{1, 2, 3, 4, 5, 6\}$.
 - $P(X_1 = 0 \cap X_2 = 1) = 0.49$.
 - $\text{Var}(X_1 + X_2 + X_3 + X_4 + X_5 + X_6) = 6 \cdot (0.7 \cdot 0.3)$.
15. Bei einem Binomialtest ($n = 20, \alpha = 0.05$) mit $H_0 : \pi = 0.3$ und $H_A : \pi \neq 0.3$ wurde der Verwerfungsbereich $K = \{0, 1\} \cup \{11, \dots, 20\}$ konstruiert. Als Teststatistik X haben wir den Wert $x = 11$ erhalten. Beurteilen Sie folgende Aussagen.
- Unter H_0 ist die Wahrscheinlichkeit $P(X = 11) = 0.012$.
 - Die Macht für die Alternativhypothese H_A ist $P_{H_A}(X \geq 11)$.
 - $P_{H_0}(X \notin K) \geq 0.95$.
 - Der P-Wert zur Beobachtung $x = 15$ ist $P_{H_0}(X \geq 15)$.
16. Bei einem Binomialtest ($n = 13, \alpha = 0.05$) mit $H_0 : \pi = 0.4$ und $H_A : \pi < 0.4$ beobachten wir den Wert $x = 2$ als Teststatistik. Beurteilen Sie folgende Aussagen.
- Der P-Wert zu $x = 2$ ist kleiner als der p-Wert zur Beobachtung $x = 0$ (keine Rechnung nötig).
 - Die Macht für die Alternative mit $\pi = 0.3$ ist grösser als die Macht für die Alternative mit $\pi = 0.2$.
 - Der Verwerfungsbereich ist $K = \{0, 1, 2\}$.
 - Je grösser der Fehler 1. Art, desto grösser ist die Macht.

Gruppe C

Gemischte Fragen

1. Beurteilen Sie folgende Aussagen.

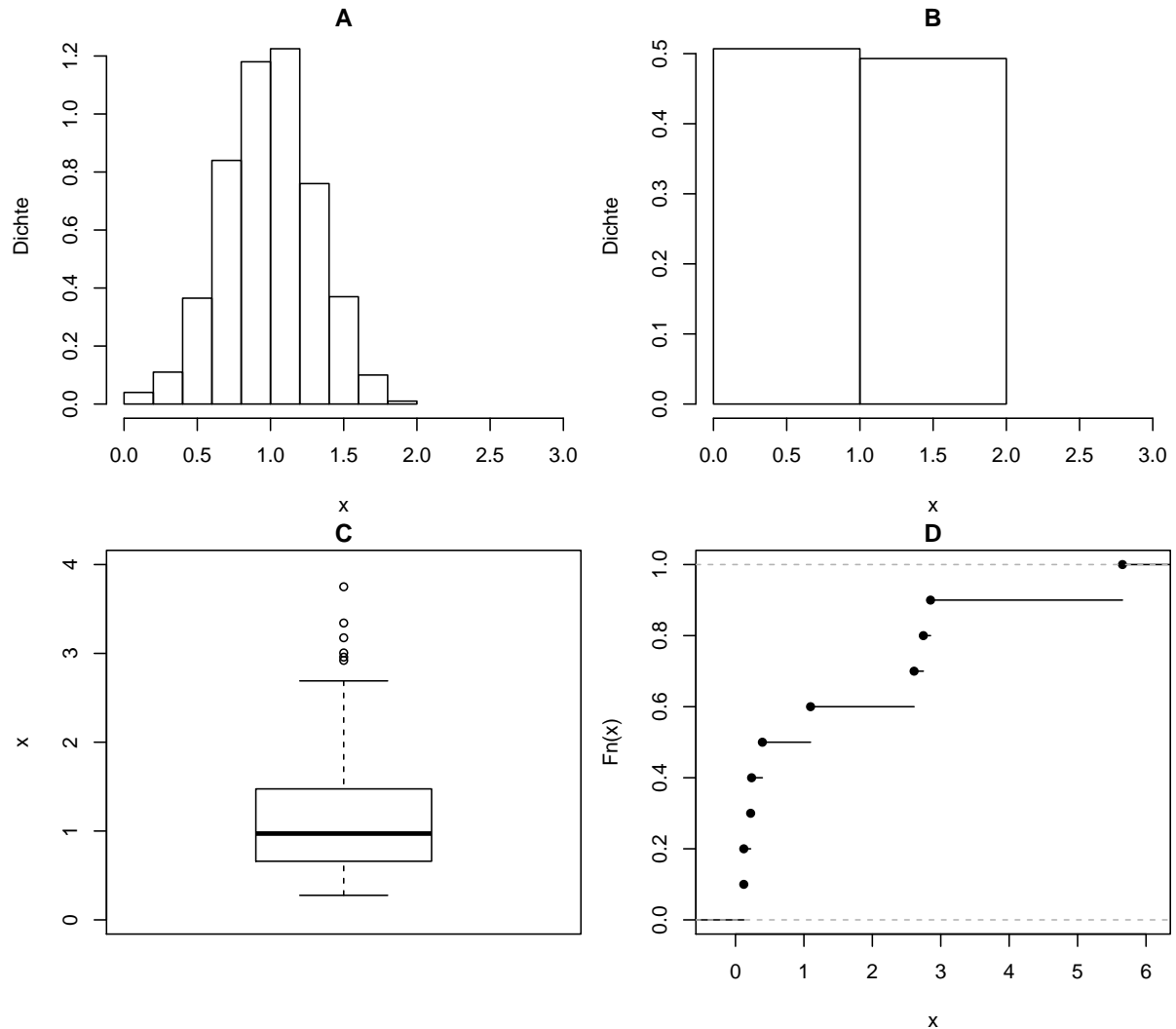
- a) Sei $E(X) = 3$ und $E(Y) = 5$, wobei X und Y unabhängig sind.
Dann gilt $E[3(Y - X) - 1] = 5$.
- b) Sei $Var(X) = Var(Y) = 1$, wobei X und Y unabhängig sind.
Dann gilt $Var[Y - X + 1] = 0$.
- c) Die empirische Standardabweichung der Daten $\{1, 2, 2, 1, 5\}$ ist 2.70.
- d) Das empirische 20%-Quantil der Daten $\{1, 5, 4, 1, 6\}$ ist 1.

2. Beurteilen Sie folgende Aussagen.

- a) Sei $Y := 1 + 2X^2$, wobei X eine Zufallsvariable ist, dann ist die Korrelation zwischen X^2 und Y **nicht** gleich 1.
- b) Bei einer einfachen linearen Regression des Intelligenzquotienten (IQ) auf getrunzene Kaffeemenge (K) basierend auf 100 zufällig gewählten Testkandidaten wird $\hat{\beta}_1 = -5$ geschätzt und der t-Test zu $H_0 : \beta_1 = 0$ ist auf 1% signifikant (Regressionsmodell: $IQ_i = \beta_0 + \beta_1 K_i + \epsilon_i$, wobei ϵ_i i.i.d. Fehler). Wir können daraus schliessen, dass ein hoher IQ einen tiefen Kaffeekonsum verursacht.
- c) Wir betrachten 2 Schüsseln mit jeweils 10 Kugeln. In Schüssel A sind 4 schwarze und 6 weisse Kugeln. In Schüssel B gibt es keine schwarze Kugeln, d.h. alle 10 Kugeln sind weiss. Unsere Strategie ist wie folgt:
Wir wählen zufällig ($p = 0.5$) entweder A oder B aus und ziehen danach blind aus der ausgewählten Schüssel eine Kugel.
Die Wahrscheinlichkeit, eine weisse Kugel zu ziehen, ist 0.8.
- d) Wir nehmen dieselben Schüsseln und Zuteilungen der Kugeln wie in Teilaufgabe c), aber wählen eine neue Strategie:
Die Kugeln aus Schüssel A und B werden in eine grosse Schüssel C geleert und danach ziehen wir blind eine Kugel.
Die Wahrscheinlichkeit, eine weisse Kugel zu ziehen, ist 0.8.

Gruppe C

3. Betrachten Sie die nachfolgenden Plots.



Beurteilen Sie folgende Aussagen.

- Histogramm **A** und Histogramm **B** können **nicht** von den gleichen Daten stammen.
- Histogramm **A** zeigt eine symmetrische Verteilung.
- Boxplot **C** beschreibt die gleichen Daten wie Histogramm **A**.
- Histogramm **B** und die empirische Verteilungsfunktion in Plot **D** können von den gleichen Daten stammen.

Gruppe C

4. Beim Austragen von Briefen gibt es die folgenden Ereignisse:
 S = Brief hat eine städtische Adresse, S^C = Brief hat eine ländliche Adresse,
 B = Brief kommt an, B^C = Brief kommt nicht an.
Ein Brief hat mit 60% Wahrscheinlichkeit eine städtische Adresse. Aus Erfahrung kommen 80% der Briefe an, welche eine städtische Adresse haben.
- a) Die Wahrscheinlichkeit, dass ein Brief eine städtische Adresse hat und ankommt, ist 0.48.
 - b) Falls $P(B|S^C)$ bekannt wäre, könnte man die Wahrscheinlichkeit für $P(B)$ mit den gegebenen Wahrscheinlichkeiten berechnen.
 - c) Die Ereignisse S und B sind unabhängig, falls $P(B) = 0.8$.
 - d) Angenommen A und B sind zwei disjunkte Ereignisse mit $P(A) \neq 0$ und $P(B) \neq 0$. Dann ist $P(A|B) = 1$.
5. Beurteilen Sie folgende Aussagen.
- a) Falls $P(A) = 0.3$, $P(B) = 0.4$ und $P(A \cup B) = 0.58$. Dann gilt, dass die Ereignisse A und B unabhängig sind.
 - b) Falls $P(G) = 1/2$ und $P(E \cap G) = 1/3$, dann gilt $odds(E | G) = 2$.
 - c) Ein Meteorologe macht die Vorhersage: $odds(\text{Regen}) = 0.01$. Es ist sinnvoll, den Regenschirm mitzunehmen.
 - d) Falls $0 < P(B) = \frac{1}{2}P(A) < 1$, dann gilt $odds(B) = \frac{1}{2}odds(A)$.
6. Es seien $X_1, \dots, X_n \stackrel{i.i.d.}{\sim} F$, wobei F eine Verteilung ist mit Erwartungswert $E[X_i] = \mu$, und endlicher Varianz σ_F^2 . Beurteilen Sie folgende Aussagen.
- a) Der zentrale Grenzwertsatz sagt: Das arithmetische Mittel von diesen Zufallsvariablen folgt approximativ einer Normalverteilung mit einer Varianz σ^2 und einem Erwartungswert μ , welcher mit grösser werdendem n gegen 0 geht.
 - b) Die Verteilung F muss nicht bekannt sein, damit der zentrale Grenzwertsatz anwendbar ist.
 - c) Der zentrale Grenzwertsatz sagt aus, dass jedes F immer mit einer Normalverteilung approximiert werden kann.
 - d) Max organisiert eine Party und möchte dafür 7 l Orangensaft selber pressen. Eine Orange liefert im Schnitt 0.2 l Orangensaft mit einer Standardabweichung von 0.08 l. Max kauft 40 Orangen. Die Wahrscheinlichkeit, dass er aus 40 Orangen weniger als 7 l Saft erhält, ist kleiner als 0.01.

Gruppe C

Binomialverteilung und -test

7. Angenommen eine Flaschenpost, welche in den Atlantik geworfen wird, wird mit 10% Wahrscheinlichkeit gefunden. Peter wirft nun 6 Flaschen in den Atlantik. Die Zufallsvariable X_i beschreibt, ob die Flasche i gefunden wurde ($X_i = 1$: gefunden, $X_i = 0$: nicht gefunden). Die Variablen X_i , $i = 1, \dots, 6$ können als unabhängig angenommen werden. Die Anzahl gefundener Flaschen kann folgendermassen definiert werden: $Y = \sum_{i=1}^6 X_i$. Es gilt ...
- Y hat eine Binomialverteilung mit $n = 6$ und $\pi = 0.1$.
 - Angenommen $P(Y = 0) = 0.53$ und $P(Y = 1) = 0.35$, dann gilt $P(Y > 1) = 0.12$.
 - Man erwartet, dass **weniger** als eine Flasche gefunden wird.
 - Der Erwartungswert für die Anzahl nicht gefundener Flaschen ist $E[1 - X_1]$.
8. Angenommen $X_i \sim \text{Bernoulli}(0.7)$ i.i.d. für $i \in \{1, 2, 3, 4, 5, 6\}$, wobei $X_i = 0$ einen Misserfolg und $X_i = 1$ einen Erfolg bezeichnet. Dann gilt...
- $E(X_1) = 0.7$.
 - $P(X_i = 0) = 0.7$ für alle $i \in \{1, 2, 3, 4, 5, 6\}$.
 - $P(X_1 = 0 \cap X_2 = 1) = 0.49$.
 - $\text{Var}(X_1 + X_2 + X_3 + X_4 + X_5 + X_6) = 6 \cdot (0.7 \cdot 0.3)$.
9. Bei einem Binomialtest ($n = 20, \alpha = 0.05$) mit $H_0 : \pi = 0.3$ und $H_A : \pi \neq 0.3$ wurde der Verwerfungsbereich $K = \{0, 1\} \cup \{11, \dots, 20\}$ konstruiert. Als Teststatistik X haben wir den Wert $x = 11$ erhalten. Beurteilen Sie folgende Aussagen.
- Unter H_0 ist die Wahrscheinlichkeit $P(X = 11) = 0.012$.
 - Die Macht für die Alternativhypothese H_A ist $P_{H_A}(X \geq 11)$.
 - $P_{H_0}(X \notin K) \geq 0.95$.
 - Der P-Wert zur Beobachtung $x = 15$ ist $P_{H_0}(X \geq 15)$.
10. Bei einem Binomialtest ($n = 13, \alpha = 0.05$) mit $H_0 : \pi = 0.4$ und $H_A : \pi < 0.4$ beobachten wir den Wert $x = 2$ als Teststatistik. Beurteilen Sie folgende Aussagen.
- Der P-Wert zu $x = 2$ ist kleiner als der p-Wert zur Beobachtung $x = 0$ (keine Rechnung nötig).
 - Die Macht für die Alternative mit $\pi = 0.3$ ist grösser als die Macht für die Alternative mit $\pi = 0.2$.
 - Der Verwerfungsbereich ist $K = \{0, 1, 2\}$.
 - Je grösser der Fehler 1. Art, desto grösser ist die Macht.

Gruppe C

t-Test

11. In einer Studie wird die Absorption von einem Eisenergänzungsmittel bei Männern und Frauen untersucht. Dafür wurde 18 Männern und 18 Frauen über 4 Wochen hinweg ein Eisenpräparat verabreicht. Vor und nach der Studie wurde bei den Probanden der Ferritin-Gehalt im Blutplasma gemessen. Ferritin ist ein Eisenspeicherprotein des Organismus und weist auf einen möglichen Eisenmangel hin. Die Differenz im Ferritingehalt je Proband ist in der folgenden Tabelle aufgeführt:

| | | | | | |
|----------------|----|----|----|-----|----|
| männlich x_i | 21 | 23 | 19 | ... | 27 |
| weiblich y_i | 13 | 22 | 18 | ... | 15 |

Wir nehmen an, dass die männlichen und weiblichen Ferritingehalte jeweils unabhängig voneinander sind, sowie einer Normalverteilung folgen mit Erwartungswert μ_x , beziehungsweise μ_y und gleicher Standardabweichung σ .

Beurteilen Sie folgende Aussagen.

- a) Es handelt sich um ungepaarte Stichproben.
 - b) Bei einem ungepaarten t-Test müssen die Stichprobengrößen in beiden Gruppen **nicht** gleich sein.
 - c) Der Welch-Test setzt voraus, dass die Messungen x_i und y_i ($i = 1, \dots, 18$) die gleiche Standardabweichung haben.
 - d) Bei gepaarten Stichproben hat der gepaarte t-Test in der Regel eine grössere Macht als der ungepaarte t-Test.
12. Aus den Daten der Eisen-Studie (vorherige Aufgabe) wurden folgende Kennzahlen ermittelt: $\bar{x} = 22.1$, $\bar{y} = 17.9$ und $\hat{\sigma}_x = 3.6$ und $\hat{\sigma}_y = 4.4$. Wir führen nun einen ungepaarten t-Test durch.
- a) Der beobachtete Wert der Teststatistik liegt zwischen 3.10 und 3.15.
 - b) Unter H_0 folgt die Teststatistik einer t_{36} -Verteilung.
 - c) Angenommen die Teststatistik wäre 0.72 und der Verwerfungsbereich des Tests $H_0 : \mu_x = \mu_y$, $H_A : \mu_x \neq \mu_y$ wäre $(-\infty, -2.03] \cup [2.03, \infty)$ für das Signifikanzniveau $\alpha = 5\%$, dann wird die Nullhypothese auf dem 5%-Signifikanzniveau nicht verworfen.
 - d) Wenn wir den Test folgendermassen anlegen: $H_0 : \mu_x = \mu_y$, $H_A : \mu_x \neq \mu_y$, ist die Macht des Tests grösser als für eine einseitige Alternativhypothese.

Gruppe C

13. Beurteilen Sie folgende Aussagen.

- a) Bei einem Einstichproben t-Test ($H_0 : \mu = 0$, $H_A : \mu > 0$, 25 Beobachtungen insgesamt) ist der beobachtete Wert der Teststatistik 2.49. Dann ist der P-Wert etwa 1%.
- b) Beim t-Test muss die wahre Standardabweichung der Zufallsvariablen nicht bekannt sein.
- c) Angenommen wir haben $X_1, \dots, X_n \stackrel{\text{iid}}{\sim} \mathcal{N}(\mu, \sigma^2)$, wobei die Standardabweichung ($\sigma = 2$) exakt bekannt ist. Wir wollen, dass die Breite des zweiseitigen 95%-Vertrauensintervalls für μ höchstens 2 beträgt. Dazu bräuchten wir mindestens $n = 16$ Datenpunkte.
- d) Beim Wilcoxon-Test müssen die Daten normalverteilt sein.

Gruppe C

Lineare Regression

14. Herr Sigrist testet ein neues Pestizid an seinen Tomaten. Dafür teilt er das Tomatenbeet in n Bereiche mit je 10 m^2 Fläche und misst für jedes Feld den Ertrag in kg Tomaten (Variable `ertrag`). Er möchte diesen Ertrag in Abhängigkeit der verwendeten Pestizidmenge (Variable `pestizid`), gemessen in Liter l , beschreiben. Hierfür verwendet er ein lineares Modell:

$$\text{ertrag}_i = \beta_0 + \beta_1 \cdot \text{pestizid}_i + \varepsilon_i, \quad \varepsilon_i \stackrel{\text{iid}}{\sim} \mathcal{N}(0, \sigma^2).$$

Der (unvollständige) Regressionsoutput sieht wie folgt aus:

Residuals:

| Min | 1Q | Median | 3Q | Max |
|--------|-------|--------|-------|-------|
| -86.00 | -9.96 | 3.17 | 10.99 | 35.86 |

Coefficients:

| | Estimate | Std. Error | t value | Pr(> t) |
|-------------|----------|------------|---------|-------------|
| (Intercept) | 3.0437 | 6.5182 | ??? | 0.64 |
| pestizid | 0.5471 | 0.0612 | 8.93 | 1.3e-11 *** |

0 '***' 0.001 '**' 0.01 '*' 0.05 '.' 0.1 ' ' 1

Residual standard error: 21.6 on 46 degrees of freedom

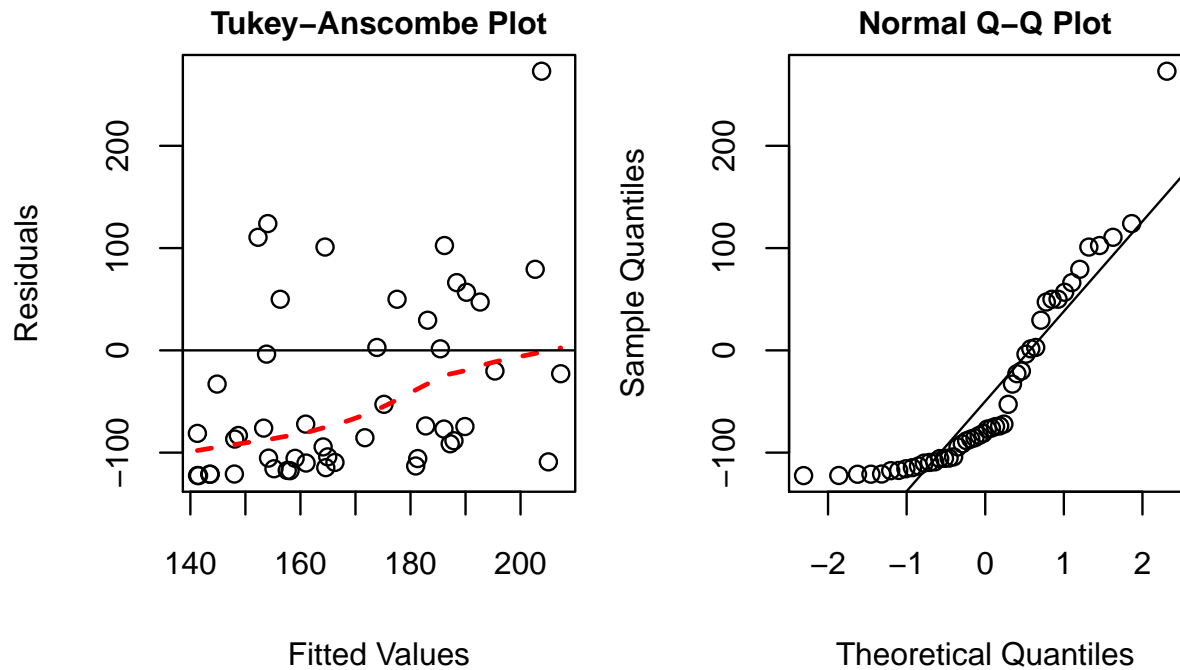
Multiple R-squared: 0.634, Adjusted R-squared: 0.626

Beurteilen Sie folgende Aussagen.

- Der Effekt der Pestizidmenge ist signifikant auf dem 1%-Niveau.
 - Der t-Wert von β_0 ist 0.47.
 - Ein approximatives, zweiseitiges 95%-Vertrauensintervall für β_1 ist gegeben durch $[0.42, 0.67]$.
 - Die lineare Regression wurde basierend auf $n = 47$ Datenpunkten berechnet.
15. Mit Hilfe des Modells aus der Pestizid-Studie (vorherige Aufgabe) wollen wir nun Vorhersagen machen. Beurteilen Sie folgende Aussagen.
- Falls man im Sinne eines biologischen Anbaus ganz auf den Einsatz von Pestiziden verzichten möchte, so hätte man gemäss des Modells einen erwarteten Ertrag von 3.04 kg pro Bereich.
 - Angenommen man hat mit dem Modell einen erwarteten Ertrag von 30 kg pro Bereich vorhergesagt, dann hat Herr Sigrist etwa 16.41 l Pestizid eingesetzt.
 - Falls die Pestizidmenge um 8 l erhöht wird, so erhöht sich der erwartete Ertrag um etwa 7.42 kg pro Bereich.
 - Das 95%-Vorhersageintervall für den Ertrag ist immer breiter als das 95%-Vertrauensintervall für den erwarteten Ertrag bei gleicher Pestizidmenge.

Gruppe C

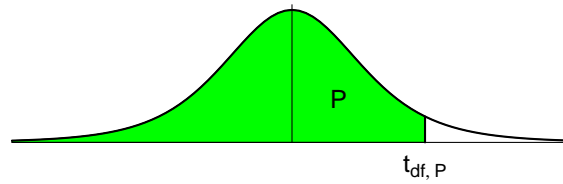
16. Betrachten Sie die nachfolgenden Plots, welche die Residuen aus dem Regressionsmodell der Pestizid-Studie zeigen.



Beurteilen Sie folgende Aussagen.

- Der Mittelwert der Residuen ist in etwa 0.
- Die Fehlervarianz ist in etwa konstant.
- Sowohl der Tukey-Anscombe wie auch der QQ Plot deuten auf einen Ausreisser hin. Es wäre ratsam, diesen Ausreisser von der Analyse auszuschliessen oder robuste Methoden zu verwenden.
- Die Normalitätsannahme ist erfüllt.

Perzentile der t-Verteilung



Bsp.: $t_{9; 0.975} = 2.262$

| df | $t_{0.60}$ | $t_{0.70}$ | $t_{0.80}$ | $t_{0.90}$ | $t_{0.95}$ | $t_{0.975}$ | $t_{0.99}$ | $t_{0.995}$ |
|----------|------------|------------|------------|------------|------------|-------------|------------|-------------|
| 1 | 0.325 | 0.727 | 1.376 | 3.078 | 6.314 | 12.706 | 31.821 | 63.657 |
| 2 | 0.289 | 0.617 | 1.061 | 1.886 | 2.920 | 4.303 | 6.965 | 9.925 |
| 3 | 0.277 | 0.584 | 0.978 | 1.638 | 2.353 | 3.182 | 4.541 | 5.841 |
| 4 | 0.271 | 0.569 | 0.941 | 1.533 | 2.132 | 2.776 | 3.747 | 4.604 |
| 5 | 0.267 | 0.559 | 0.920 | 1.476 | 2.015 | 2.571 | 3.365 | 4.032 |
| 6 | 0.265 | 0.553 | 0.906 | 1.440 | 1.943 | 2.447 | 3.143 | 3.707 |
| 7 | 0.263 | 0.549 | 0.896 | 1.415 | 1.895 | 2.365 | 2.998 | 3.499 |
| 8 | 0.262 | 0.546 | 0.889 | 1.397 | 1.860 | 2.306 | 2.896 | 3.355 |
| 9 | 0.261 | 0.543 | 0.883 | 1.383 | 1.833 | 2.262 | 2.821 | 3.250 |
| 10 | 0.260 | 0.542 | 0.879 | 1.372 | 1.812 | 2.228 | 2.764 | 3.169 |
| 11 | 0.260 | 0.540 | 0.876 | 1.363 | 1.796 | 2.201 | 2.718 | 3.106 |
| 12 | 0.259 | 0.539 | 0.873 | 1.356 | 1.782 | 2.179 | 2.681 | 3.055 |
| 13 | 0.259 | 0.538 | 0.870 | 1.350 | 1.771 | 2.160 | 2.650 | 3.012 |
| 14 | 0.258 | 0.537 | 0.868 | 1.345 | 1.761 | 2.145 | 2.624 | 2.977 |
| 15 | 0.258 | 0.536 | 0.866 | 1.341 | 1.753 | 2.131 | 2.602 | 2.947 |
| 16 | 0.258 | 0.535 | 0.865 | 1.337 | 1.746 | 2.120 | 2.583 | 2.921 |
| 17 | 0.257 | 0.534 | 0.863 | 1.333 | 1.740 | 2.110 | 2.567 | 2.898 |
| 18 | 0.257 | 0.534 | 0.862 | 1.330 | 1.734 | 2.101 | 2.552 | 2.878 |
| 19 | 0.257 | 0.533 | 0.861 | 1.328 | 1.729 | 2.093 | 2.539 | 2.861 |
| 20 | 0.257 | 0.533 | 0.860 | 1.325 | 1.725 | 2.086 | 2.528 | 2.845 |
| 21 | 0.257 | 0.532 | 0.859 | 1.323 | 1.721 | 2.080 | 2.518 | 2.831 |
| 22 | 0.256 | 0.532 | 0.858 | 1.321 | 1.717 | 2.074 | 2.508 | 2.819 |
| 23 | 0.256 | 0.532 | 0.858 | 1.319 | 1.714 | 2.069 | 2.500 | 2.807 |
| 24 | 0.256 | 0.531 | 0.857 | 1.318 | 1.711 | 2.064 | 2.492 | 2.797 |
| 25 | 0.256 | 0.531 | 0.856 | 1.316 | 1.708 | 2.060 | 2.485 | 2.787 |
| 26 | 0.256 | 0.531 | 0.856 | 1.315 | 1.706 | 2.056 | 2.479 | 2.779 |
| 27 | 0.256 | 0.531 | 0.855 | 1.314 | 1.703 | 2.052 | 2.473 | 2.771 |
| 28 | 0.256 | 0.530 | 0.855 | 1.313 | 1.701 | 2.048 | 2.467 | 2.763 |
| 29 | 0.256 | 0.530 | 0.854 | 1.311 | 1.699 | 2.045 | 2.462 | 2.756 |
| 30 | 0.256 | 0.530 | 0.854 | 1.310 | 1.697 | 2.042 | 2.457 | 2.750 |
| 31 | 0.255 | 0.530 | 0.853 | 1.309 | 1.696 | 2.040 | 2.452 | 2.744 |
| 32 | 0.255 | 0.530 | 0.853 | 1.309 | 1.694 | 2.037 | 2.449 | 2.738 |
| 33 | 0.255 | 0.530 | 0.853 | 1.308 | 1.693 | 2.035 | 2.445 | 2.733 |
| 34 | 0.255 | 0.529 | 0.852 | 1.307 | 1.691 | 2.032 | 2.441 | 2.728 |
| 35 | 0.255 | 0.529 | 0.852 | 1.306 | 1.690 | 2.030 | 2.438 | 2.724 |
| 40 | 0.255 | 0.529 | 0.851 | 1.303 | 1.684 | 2.021 | 2.423 | 2.704 |
| 60 | 0.254 | 0.527 | 0.848 | 1.296 | 1.671 | 2.000 | 2.390 | 2.660 |
| 90 | 0.254 | 0.526 | 0.846 | 1.291 | 1.662 | 1.987 | 2.368 | 2.632 |
| 120 | 0.254 | 0.526 | 0.845 | 1.289 | 1.658 | 1.980 | 2.358 | 2.617 |
| ∞ | 0.253 | 0.524 | 0.842 | 1.282 | 1.645 | 1.960 | 2.326 | 2.576 |